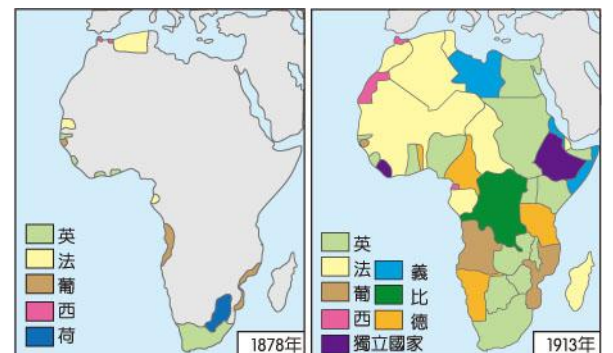
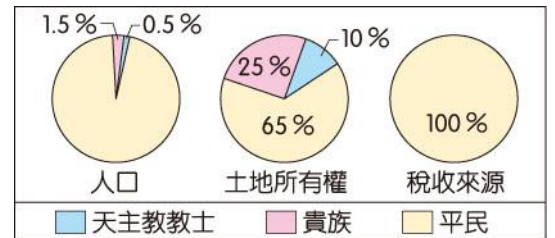


114 學年度第 2 學期 國中部九年級歷史科補考題庫

- (D) 1. 2006 年由威爾史密斯主演的電影：當幸福來敲門，其英文原名為 *The Pursuit of Happiness*，作品中也提到「(美國)開國元勳強調人們應該擁有追求幸福的權利」。上述主張最可能見於哪份文獻中？
(A)法意 (B)民約論 (C)百科全書 (D)獨立宣言
- (B) 2. 各國國慶日的選定，通常以呈現該國立國精神的事件為依據。美國以何事的發生日期為國慶日？
(A)波士頓茶葉事件 (B)發表獨立宣言 (C)制定憲法 (D)華盛頓就職總統
- (B) 3. 新稅的增加引起殖民地人民強烈抗爭，各代表召開會議表示：「沒有得到代表的同意，便不能向他們強行收稅，否則即是暴政。」以上抗爭行動發生於何時何地？
(A)1660 年代的英國 (B)1760 年代的北美
(C)1790 年代的法國 (D)1850 年代的美國
- (B) 4. 右圖呈現某事件前夕，當地的社會情況。此事件最可能是下列何者？
(A)中國武昌起事 (B)法國大革命
(C)日本大化革新 (D)美國獨立
- (D) 5. 法國在 18 世紀與 19 世紀相交的時候，發生了一連串的大事。國王為了增稅而舉行會議，造成平民不服，另組「國民會議」。不滿的巴黎民眾攻陷巴士底監獄，開啟了法國大革命。之後政權不斷的輪替，周邊國家為了避免法國的自由思潮影響而組成「反法聯軍」。在這一連串的内憂外患之下，下列何者逐漸掌握政治大權，之後甚至得以稱帝？
(A)華盛頓 (B)孟德斯鳩 (C)路易十六 (D)拿破崙
- (A) 6. 19 世紀前期，奧國的首相說：「各國國王應當思量他們在未來還有多少機會可以安坐王位，除非各國團結合作，維護政治體制，否則歐洲社會將會崩解。」此後奧國首相採取什麼行動？
(A)召開維也納會議 (B)參與獨立戰爭 (C)擁護拿破崙 (D)宣揚自由、平等、博愛的精神
- (A) 7. 19 世紀前期開始，拉丁美洲展開風起雲湧的獨立運動，此時美國總統門羅發表宣言，有助鞏固各國的獨立。門羅宣言的主要內容應為下列何者？
(A)美洲事務由美洲國家解決，反對歐洲干預
(B)以正統為原則，主張恢復各國王室統治權
(C)以武力威脅各國簽訂條約，開放通商口岸
(D)推廣自由、平等、博愛的精神，喚醒民族意識
- (D) 8. 19 世紀拉丁美洲各國紛紛獨立，當時推動玻利維亞、委內瑞拉等國獨立的玻利瓦曾說：「只有團結才能驅逐敵人，建立一個自由的政府。」玻利瓦所指的「敵人」應是下列哪一國家？
(A)美國 (B)英國 (C)義大利 (D)西班牙
- (D) 9. 右圖是 1890 年俾斯麥辭去首相時，英國雜誌上刊載的政治漫畫，說明「德意志皇帝坐視俾斯麥辭職，如同船主任由船隻的領航員離去。」俾斯麥因為完成下列哪些成就，而被形容為船隻的領航員？甲、將日耳曼地區的小國合併為三十多邦；乙、成立關稅同盟，奠定統一的經濟基礎；丙、帶領普魯士先後擊敗奧地利與法國；丁、建立德意志帝國，並使其成為歐洲強國
(A)甲乙 (B)甲丁 (C)乙丙 (D)丙丁
- (D) 10. 有一場演講，內容包含了方言文學、德意志帝國的建立與義大利的統一運動。這場演講的主題最可能是下列何者？
(A)歐洲軍備武器的進步 (B)歐洲科學革命的誕生 (C)歐洲宗教改革的開端 (D)歐洲民族意識的發展
- (C) 11. 右圖是小青在書上看到的插圖。這二幅圖的變化最能顯示下列何者在非洲的發展？
(A)民族自決 (B)門羅宣言 (C)帝國主義 (D)鎖國政策
- (D) 12. 一本老舊的歐洲史書這麼敘述：「19 世紀時，巴爾幹半島上因為列強的介入，各地區相繼獨立。同時也因為新興國家間的領土糾紛與列強干預，在 20 世紀初引發牽扯歐洲各國的大戰……。」由於書本老舊髒汙，之後的部分無法閱讀。這個牽扯歐洲各國的大戰為下列何者？
(A)美國獨立戰爭 (B)拿破崙戰爭 (C)德法戰爭 (D)第一次世界大戰



(A) 13. 下表是四個歐洲國家在第一次世界大戰爆發後的反應，根據表中內容判斷，何者屬於「同盟國」陣營？

國家	事件後的反應
甲	得到德國全力支持，向塞爾維亞宣戰。
乙	全面動員軍隊，對付奧匈帝國等國。
丙	為支持同一民族，同時向法國和俄國宣戰。

(A)甲丙 (B)丙丁 (C)甲乙 (D)乙丁

(B) 14. 第一次世界大戰之後，歐洲出現許多新興國家，如捷克、匈牙利、南斯拉夫等。這些國家得以獨立建國，與巴黎和會建立的哪一原則有關？

(A)三權分立 (B)民族自決 (C)自由經濟 (D)帝國主義

(C) 16. 右圖是政治諷刺漫畫，呈現一帝國在某戰爭結束後，因被迫簽署和約而產生的變化，此戰爭最可能是下列何者？

(A)第二次世界大戰 (B)拿破崙戰爭 (C)第一次世界大戰 (D)德法戰爭



(B) 15. 下列「國際聯盟」的特質，哪些與其最終失敗有關？

甲、本身毫無軍事力量；乙、美國最終並未加入；丙、以維護和平為目標；丁、無法有效制裁侵略者

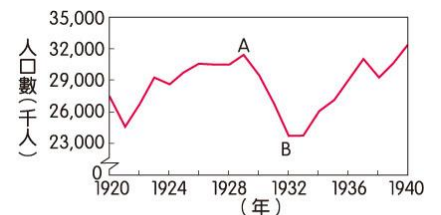
(A)甲乙丙 (B)甲乙丁 (C)甲丙丁 (D)乙丙丁

(C) 17. 某書的簡介如下：「書中描寫一場革命結束了長達三百多年的沙皇專制統治，成立臨時政府，但在八個月之後，布爾什維克革命又推翻了曇花一現的臨時政府。」此書最可能是下列何者？

(A)1789 年法國大革命 (B)1871 年德意志的崛起 (C)1917 年變動的俄羅斯 (D)1949 年共產中國誕生

(D) 18. 右圖是 1920 年至 1940 年美國「非農業就業人口數」的統計圖，其中由 A 至 B 的變化，主要與下列何者有關？

(A)黑人奴隸獲得解放，投入工業生產
(B)政府施行福利政策，保障勞工生活
(C)國家投入大戰，青年至海外作戰
(D)銀行與工廠倒閉，社會經濟衰退



非農業就業人口數：從事農業以外的就業人口數，主要指製造業與服務業。

(D) 19. 如下圖所示，依照時間發展順序，「甲」應是下列哪場戰爭？



(A)美國獨立戰爭 (B)拿破崙戰爭 (C)第一次世界大戰 (D)第二次世界大戰

(B) 20. 班上同學正在討論關於第二次世界大戰的史事。下列哪位同學的敘述，才是正確的內容？

(A)小雲：美國在 1939 年即參戰
(B)小蘭：主要兩大陣營為同盟國和軸心國
(C)小嘉：軸心國中第一個投降的國家是德國
(D)小慧：英國對日本投下原子彈才使日本投降

(B) 21. 右圖是 1938 年英國首相張伯倫在某次會議結束以後，於機場所拍攝的照片，張伯倫自豪地向群眾展示與希特勒的和平協定。該協定的獲取乃基於下列何者的犧牲？

(A)法國 (B)捷克 (C)德國 (D)蘇聯



(D) 22. 聯合國與國際聯盟都是在世界大戰後組成的國際組織。下列關於聯合國的事實，哪些不同於國際聯盟？


甲、以維護和平為目標；乙、美國是創始會員國；丙、能夠進行武力制裁；丁、會員國須提供武力

(A)甲乙丙 (B)甲乙丁 (C)甲丙丁 (D)乙丙丁

(C) 23. 下表呈現甲國於兩次世界大戰中，在歐洲戰場開始參戰與結束參戰的原因。表中的「？」最適合填入下列何者？

甲國在歐洲戰場的情形	第一次世界大戰	第二次世界大戰
開始參戰的原因	支援「斯拉夫兄弟」	德國毀約攻打國土
結束參戰的原因	？	德國投降

(A)美國反對無限制潛艇政策，援助協約國 (B)簽署凡爾賽條約，戰敗投降
(C)國內共產政權成立，向同盟國議和 (D)美國投下原子彈，敵國投降



- (C) 24. 下列與戰間期和第二次世界大戰相關的圖片，若依圖片資訊判斷，請問發生順序為下列何者？
 (A)甲丙乙丁 (B)乙丁丙甲 (C)丙乙甲丁 (D)丁甲乙丙
- (D) 25. 小雲在報紙上經常看到「第三世界」一詞。有關第三世界的敘述，下列何者正確？
 (A)以蘇聯為首的共產國家 (B)都是歐洲聯盟的會員國
 (C)都是工商業發達的國家 (D)通常不與美國或蘇聯結盟
- (C) 26. 第二次世界大戰後，歐洲曾施行過各種不同的政策。下列哪些政策是歐美國家為了防堵蘇聯共產勢力西進而施行的？
 甲、興建柏林圍牆；乙、援助歐洲經濟重建；丙、成立華沙公約組織；丁、成立北大西洋公約組織
 (A)甲乙 (B)乙丙 (C)乙丁 (D)甲丁
- (D) 27. 右圖是政治諷刺漫畫，呈現美蘇兩國領導人合力壓著標註「核戰」的金屬箱子，試圖阻止箱內的怪物跑出來。這張漫畫最有可能是描述哪一時代的哪一事件？
 (A)戰間期：經濟大恐慌 (B)一次大戰：壕溝戰
 (C)二次大戰：投下原子彈 (D)冷戰：古巴危機
- (D) 28. 蘇聯前總統戈巴契夫是 1990 年諾貝爾和平獎的得主。他得獎的理由最可能是下列何者？
 (A)組織「第三世界」，形成與美蘇抗衡的勢力
 (B)實行各項新政並興建大型工程，改善經濟大恐慌
 (C)積極推行計畫經濟，全力發展國防，實施獨裁統治
 (D)力圖推動政治民主及經濟改革，減少蘇聯對東歐的控制



29-30 題為題組

◎ 下圖為某革命期間的宣傳畫作網球場宣誓，描繪革命的起源。圖中三人分別為教士、貴族、平民三個階級，畫家描繪第三階級的代表在議政受阻後，另組會議，他們在原為貴族遊憩場所的網球場，宣誓改革理念。



- (B) 29. 圖中所描繪的會議應為下列何者？
 (A)開羅會議 (B)國民會議 (C)巴黎和會 (D)維也納會議
- (C) 30. 會中人物所欲宣誓的理念應為何者？
 (A)文藝、復古、人文 (B)科學、理性、工業化 (C)自由、平等、博愛 (D)國家、尊嚴、榮耀

31-32 題為題組

◎ 下圖是 1899 年刊載於美國雜誌上的政治漫畫，標題為「日本在美國的主持下初次參加社交活動」，請觀察圖片並回答問題。



- (C) 31. 請根據畫中出席者所代表的國家推斷：所謂「參與社交活動」應是指下列何事？
 (A)加入非洲的瓜分 (B)參與維也納會議 (C)躋身列強之林 (D)控制美洲的事務
- (B) 32. 日本能夠獲得介紹，正式「參加社交活動」是因為日本完成下列哪些事情？
 甲、明治維新；乙、擊敗中國；丙、擊敗俄國；丁、取得殖民地
 (A)甲乙丙 (B)甲乙丁 (C)甲丙丁 (D)乙丙丁

33-34 題為題組

◎ 請閱讀短文後，回答下列問題：

蘇聯解體前，民生物資匱乏、貨幣超發嚴重，導致貨幣貶值，幾乎所有商品都出現短缺。

蘇聯解體後，歷經兩次經濟轉型的陣痛。2004 年起，俄羅斯聯邦經濟開始起飛；2011 年，GDP 增長 4.3%。擺脫了共產計畫經濟的俄羅斯人民，解放了生產力，並取得驚人的經濟發展成績。然而，近年出現不斷下滑的趨勢、多年出現負增長。故此後，經濟問題是俄羅斯政府在國內面臨的主要挑戰。

(資料來源：改寫自陸南泉，俄羅斯經濟轉型 30 年評析，2021 年。)

- (B) 33. 本文最可能被下列哪本書籍引用？
 (A)二次大戰與蘇聯 (B)冷戰後的俄羅斯 (C)俄國與共產革命 (D)計畫經濟的前景
- (C) 34. 上文提到的俄羅斯聯邦，是蘇聯解體後成立的聯邦制國家，其目前參加的區域性政治組織應為下列何者？
 (A)北大西洋公約組織 (B)華沙公約組織 (C)獨立國家國協 (D)國際聯盟

35-36 題為題組

◎ 請下圖為 1960 年代的諷刺漫畫，請觀察圖片並回答問題：



- (D) 35. 根據圖片中的線索推斷，這兩張圖呈現哪一時期的歷史？
 (A)第一次世界大戰 (B)戰間期 (C)第二次世界大戰 (D)冷戰
- (C) 36. 這樣的對峙情勢在哪一事件後正式告一段落？
 (A)越南統一 (B)東、西德統一 (C)蘇聯崩潰瓦解 (D)列寧發動革命

37-39 題為題組

◎ 請閱讀短文後，回答下列問題：

西線無戰事是德國作家雷馬克的反戰小說，雷馬克以自身經歷過的第一次世界大戰為基礎構思。該書因帶有強烈的反戰意識，曾於 1930 年代被查禁，雷馬克也因猶太人的身分被撤銷國籍。以下是該書的節選：

一、我小心地將嘴貼在一個瓣上呼吸著。毒氣還是爬遍地上，沉到所有的凹陷裡去。毒氣像一條巨大柔軟的水母，浮到我們的洞裡來。

二、飛機吐吐地響著；機關槍嘩嘩的聲音炸裂出來。

三、本來是水槽的坦克現在成為可怕的兵器。它們裝起鐵甲，排起長長的行列滾動著。

四、炮彈，毒氣霧，坦克車隊一粉碎，饑餓，死亡。

痢疾，流行性感冒，傷寒一殺戮，燃燒，死亡。

戰壕，醫院，公共墓地—沒有其他的可能了

(B) 37. 選文中，有哪些是首次用於第一次世界大戰的新式武器？

甲、坦克；乙、毒氣；丙、炮彈；丁、飛機

(A)甲乙丙 (B)甲乙丁 (C)甲丙丁 (D)乙丙丁

(A) 38. 本書出版後不久即遭到查禁，作者也被撤銷德國國籍。此事可能與下列哪些德國的政策直接相關？ 甲、實施極權統治；乙、迫害猶太人；丙、積極建設經濟；丁、宣布廢除凡爾賽條約

(A)甲乙 (B)乙丙 (C)丙丁 (D)甲丁

(B) 39. 小浚對於西線無戰事一書深感興趣，想要在社群媒體上翻譯該書、與同學分享。擔心觸法的他，在上網蒐集相關資料。下列哪些是正確的資料？

甲、著作財產權的保障從著作完成開始；乙、該書的著作權受我國著作權法保障；丙、侵害他人智慧財產權，公開道歉是唯一方式；丁、該書作者已逝世逾 50 年，根據著作權的保障期限限制，可自由使用

(A)甲乙丙 (B)甲乙丁 (C)甲丙丁 (D)乙丙丁

40-43 題為題組

◎ 請閱讀短文後，回答下列問題：

英國倫敦泰晤士河畔有一艘見證了歷史變遷的帆船，她曾是英國最快的帆船，如今則是博物館的主體—卡蒂薩克號。

卡蒂薩克號建於 1869 年，在當時是著名的「茶船」，長年自中國運載茶葉回英國。然而，由於工業經濟上的變化，導致 1883 年起，速度更快的船隻取代了卡蒂薩克號，卡蒂薩克號開始被賦予不同的任務。

英國的羊毛業向來很興盛，潮濕的氣候、平坦的地勢、遼闊的草原，皆有利於羊毛業的發展。但是 19 世紀中葉以後，由於自由貿易政策的實施，澳洲廉價的羊毛逐漸壟斷了市場，這使得卡蒂薩克號成為往來於英國與澳洲的羊毛運送船。1954 年以後，這艘具有百餘年歷史的帆船，終於卸下出航的任務。



(參考資料：英國國家航海博物館介紹文。)

(B) 40. 文中說明卡蒂薩克號因為「工業經濟上的變化」，不再運茶。「工業經濟上的變化」，最可能指下列何者？

(A)紡織技術改良 (B)蒸汽機應用於汽船 (C)工廠制度出現 (D)鐵路網的成熟

(D) 41. 從文中可知，卡蒂薩克號直到 1954 年之前，仍有出航的任務。1914~1918 年之間，卡蒂薩克號航行中最大的風險來自下列何者的攻擊？

(A)法國戰艦 (B)美國海盜 (C)英國空軍 (D)德國潛艇

(D) 42. 在自由貿易政策下，英國大量進口澳洲羊毛。英國選擇進口澳洲羊毛的因素為何？

(A)澳洲的紡織廠較多 (B)澳洲提供充足的創業資金 (C)澳洲距離市場較近 (D)澳洲的生產成本低廉

(B) 43. 卡蒂薩克號航運時程較長，必須儲備充足的糧食，以備不時之需。船上所儲備的糧食，應注意下列哪些條件？ 甲、保存期限；乙、運輸成本低；丙、市場需求；丁、營養價值


(A)甲乙丙 (B)甲乙丁 (C)甲丙丁 (D)乙丙丁

44-46 題為題組

◎ 請閱讀短文後，回答下列問題：

1930 年代，由於經濟不景氣，美國人買不起鮮肉，因此發明了「午餐肉」，將火腿與澱粉、香料混和，製成罐頭，並添加硝酸鈉使之長期保存。幾年後，第二次世界大戰爆發，午餐肉成為美國軍隊的伙食，被譽為「幫助美國打贏戰爭的食物」。午餐肉也受美國的盟國喜愛，隨即推行至全球。

(資料來源：改寫自安德魯史密斯，牛津美國食品和飲料指南，2007 年。)



(D) 44. 根據短文，「午餐肉」發明的背景，與美國哪一歷史事件最有關聯？

(A)獨立戰爭 (B)發表門羅宣言 (C)第一次世界大戰 (D)經濟大恐慌

(A) 45. 「午餐肉」的製作與運用反映了現代食品加工的成果。「午餐肉」在第二次世界大戰期間的廣泛使用，符合下列哪些食品加工的目的？

甲、擴大銷售市場；乙、降低運輸成本；丙、符合市場需求；丁、增加營養價值

(A)甲乙丙 (B)甲乙丁 (C)甲丙丁 (D)乙丙丁

(B) 46. 「午餐肉」在戰時推行各地。「午餐肉」最可能推行至哪些國家？

甲、法國；乙、英國；丙、德國；丁、蘇聯

(A)甲乙丙 (B)甲乙丁 (C)甲丙丁 (D)乙丙丁