

一、單題（共計 50 題）

1. () 我國政府立法規範智慧財產權的目的為何？(甲)鼓勵發明與創作(乙)達到公共利益(丙)使所有權人獲得權益的保障(丁)強調企業的貢獻
(A)甲乙丙 (B)乙丙丁 (C)甲乙丁 (D)甲丙丁。
2. () 各地文化的差異愈來愈小，而大家的行為模式則會愈來愈受當代西方文化的影響，許多傳統在地文化也將從此消失。造成上述情形的主要因素為何？
(A)外來文化進入國內，與本地文化沒有互動 (B)具有龐大資源的國家有能力對其他弱勢國家輸出其流行文化產品
(C)聯合國推動相關公約的制定 (D)小國能力不敵大國，所以小國的文化毫無價值，禁不起考驗。
3. () 在中國的打壓下，我國仍努力拓展國際外交。附圖中王記者所提及的國際組織，應為下列何者？



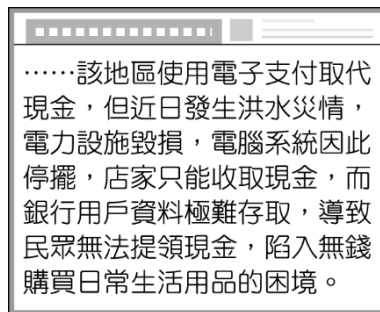
- (A)亞太經濟合作會議 (B)聯合國 (C)世界衛生組織 (D)國際特赦組織。
4. () 若以附圖中的對話來說明智慧財產權保障的內容，下列何者敘述正確？



- (A)我國法律難以規範國際商品 (B)對消費者權益並無實質影響 (C)恐破壞市場交易秩序 (D)適用的法律為《著作權法》。
5. () 小安讀到一則報導如附圖，請判斷報導中不小心被汙漬塗黑的部分，應為下列何項法律？



- (A)《個人資料保護法》 (B)《商標法》 (C)《著作權法》 (D)《專利法》。
6. () 姿娟瀏覽網路時看到一則外國新聞，根據附圖內容判斷，下列何項說明最符合報導的情境？



- (A)氣候變遷造成生態隱憂 (B)科技發展影響生活模式 (C)經濟市場缺乏競爭對象 (D)民眾偏好接受以物易物。
7. () 世界公民總會希望藉由全球連署「世界和平宣言」的活動，引起國際間的迴響，共同為保護人權與促進國際和平而努力。上述的做法符合下列何者？
(A)追求個人利益 (B)發揮世界公民素養 (C)重視環境衛生 (D)促進世界經濟發展。
 8. () 公民老師將各國際組織的名稱做成牌卡，請學生依據是否具有官方性質作配對。請問：下列哪一組牌卡的配對正確？

(A)		(B)		(C)		(D)	

國立中科實驗高級中學 114 學年度第 2 學期【九年級公民與社會科】補行評量題庫

範圍:翰林版第六冊第 1-3 課

班級: 座號: 姓名:

9. () 公平貿易的理念在各國積極推動，無論是歐洲、美、加、紐、澳、日本、香港，都可以發現致力於落實公平貿易理念的夥伴組織。這類型的組織有助於改善全球化面臨的何項挑戰？
(A)性別平權議題 (B)文化議題 (C)貧富不均議題 (D)環境議題。

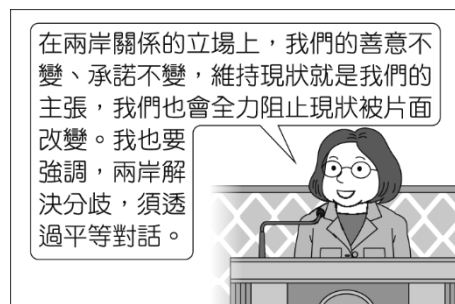
10. () 關於下文中活動理念對臺灣帶來影響的過程，最適合以下列何者說明？〔112.會考修訂〕

美國的反體罰組織於 1998 年發起「不打小孩日」的活動，目的是藉著這一天宣傳反體罰的兒童人權觀念。這個最先在美國推動的活動，迅速得到國際社會的響應，2001 年起，其他反體罰及兒童人權團體也開始於 4 月 30 日這一天舉辦各種活動，倡議終止體罰兒童，並推廣正面的管教方式。2006 年，在國內許多民間團體共同響應下，臺灣也參與「國際不打小孩日」的活動，附圖是相關活動的宣傳標語。



我國政府也致力建立更完善的法律制度來保障兒童權益，並以符合聯合國的標準為目標。例如，修訂《兒童及少年福利與權益保障法》，促使政府、社會大眾與家長正視兒童福利與虐待兒童的問題；修訂《教育基本法》，明文禁止校園體罰，藉由公權力保障學生不受體罰。政府的各種作法，目的是預防及保護兒童免於一切形式的暴力侵害，希望提供兒童更完善的成長環境。

- (A)法律修改程序的變化 (B)科技發展帶來的衝擊 (C)風俗習慣的文化傳承 (D)全球化下的文化交流。
11. () 在警政署的統計數據中，網購詐騙比例高。詐騙集團在網站張貼不實資訊、盜用商品頁面供買家下單，或者隨機寄送劣質、未購買的商品給買家，導致買家受騙。下列敘述，何者最能呼應上文？
(A)民眾可能轉發錯誤的網路資訊，讓不實訊息流傳 (B)網購詐騙問題可能導致消費者隱私權遭受到侵害 (C)網路詐騙使消費者對網購的信賴度產生負面影響 (D)五花八門的廣告，使得網路購物的比率大幅下降。
12. () 馬拉威飽受貧困及愛滋病襲擊，屏東基督教醫院深耕 19 年，提供其醫療及生活扶助，以國際非政府組織身分，積極培訓在地人才，讓馬拉威自助人助，榮獲團體醫療奉獻獎。上述內容與下列哪一敘述無關？
(A)我國非政府組織在國際社會上的貢獻 (B)善盡臺灣人身為世界公民的責任 (C)政府基於人道關懷提供的國際援助 (D)透過非政府組織服務國際社會。
13. () 阿鑫在課堂報告時提到：「……該法律規定，在推展科學技術時，政府應考量科技政策或計畫對環境生態的影響，並提供經費研究社會倫理與法律因應等相關問題。」根據上述內容判斷，他最可能是以下列何者為主題？〔94.第二次基測〕
(A)科技發展促進經濟成長 (B)資訊時代裡的國際關係 (C)科技發展對社會的衝擊 (D)資訊社會中的政治參與。
14. () 有份宣言寫道：「文化在不同的時代和不同的地方具有各種不同的表現形式。這種多樣性的具體表現，構成人類的各群體和各社會的特性所具有的獨特性和多樣化。文化多樣性是人類的共同遺產，應當從當代人和子孫後代的利益考慮予以承認和肯定。」根據上述內容判斷，此宣言主要強調下列何者？
(A)贊同文化單一化 (B)保存多元文化 (C)化解文化衝突 (D)推動文化全球化。
15. () 麗華收看中華民國國慶典禮的電視轉播，總統在大會演說上針對兩岸關係的談話如附圖。請問：演說內容表現出下列哪一項事實？



- (A)兩岸關係影響我國參與國際社會 (B)避免對立和仇恨才有助兩岸和平穩定 (C)國際情勢影響兩岸的互動交流 (D)中國長期打壓我國加入政府間國際組織。
16. () 以下為惠好蒐集的二則報導，根據內容推斷，這些爭議發生的原因最可能為下列何者？

◎某跨國企業的印尼工業廠房發生衝突事件，工人抗議作業環境惡劣和工資受到苛刻，群起放火燒毀宿舍。
◎知名服裝品牌設於孟加拉的服裝加工廠，被控訴壓榨工人，不僅工作超時，工作環境亦充滿有害的化學物質。

(A)開發中國家勞動力不足 (B)研發的商品附加價值高 (C)廠商之間面臨銷售競爭 (D)跨國企業壓低生產成本。

國立中科實驗高級中學 114 學年度第 2 學期【九年級公民與社會科】補行評量題庫

範圍:翰林版第六冊第 1-3 課


班級: 座號: 姓名:

17. () 我國許多縣市與其他國家的城市締結姊妹市。請問：締結姊妹市的做法對國家有下列何種貢獻？
 (A)藉由結盟打壓對我國不友善的國家 (B)獲取資源以提供執政黨選舉之用 (C)協助新移民更快適應我國社會
 (D)城市外交讓我國與世界接軌。
18. () 新聞報導：臺灣的飲食文化歷經數次改變，先在 1949 年後蘊含了中國各地菜色，後來又因全球化現象，融入了速食餐點風味。1949 年發生什麼事件，導致臺灣的飲食文化有了改變？
 (A)國共內戰失利 (B)白色恐怖事件 (C)二二八事件的處理不當 (D)修訂動員戡亂時期臨時條款。〔一下歷史 4-2、公民 2-2〕
19. () 就讀大學的欽耀想利用暑假做一件有意義的事，附圖是他瀏覽的網站畫面。若欽耀報名此計畫，可以實踐哪項世界公民責任？


暑假海外國際志工服務團
熱情招募

教育就是希望
你可以影響更多人的生命
讓我們將這份愛心和希望
從臺灣帶向世界各地
內容：教育服務、文化服務、勞動服務
地點：柬埔寨、菲律賓、尼泊爾、蒙古


- (A)關心國際情勢的變化 (B)展現合宜的國際禮儀 (C)以實際行動積極貢獻自我 (D)使用社群網路建立溝通橋梁。
20. () 公民課討論主題為「全球化的影響」，下列哪位同學的回答正確？
- (A)




(B)

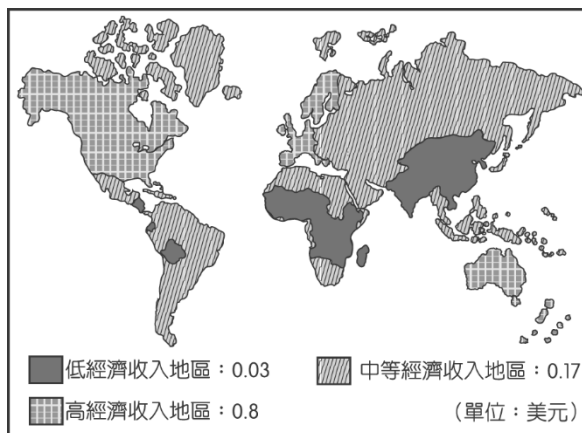


(C)




(D)


21. () 下述內容說明臺灣透過何種方式與世界接軌？
 臺灣是世界盃足球賽的球衣製造商，這件具綠色概念的球衣，是由回收寶特瓶製成的纖維和布料所生產出來，平均每 8 個寶特瓶可製成 1 件球衣，不僅顯示臺灣紡織技術的優勢，也見證我國對環境保護、節能減碳的承諾，獲得國際肯定。
 (A)提供國際援助 (B)加入國際組織 (C)簽署國際公約 (D)善盡國際責任。
22. () 國際貿易的結果可以增進全人類的福祉，但是下列何者的作為卻讓國際間的貧富差距更加擴大？
 (A)國際組織 (B)跨國企業 (C)開發中國家 (D)極權國家。
23. () 小丁：「我發現愈來愈多人習慣在跨國連鎖速食店用餐，所以傳統餐飲業的生意大受影響。」阿望：「對呀！我也發現行銷全球的某品牌牛仔褲，在世界各地熱賣，並改變流行的風潮。」根據上述二人的對話，他們最可能是在討論全球化所造成的何種衝擊？〔99.第一次基測修訂〕
 (A)行銷費用的降低 (B)區域統合的趨勢 (C)國際貿易的衰退 (D)全球文化單一化。
24. () 全球經濟體系逐漸形成，國際間的貿易活動量也大幅增加。附圖是在每一美元的國際貿易中，各地區所獲得貿易利益的分配狀況。根據圖中內容判斷，下列哪一項敘述最正確？〔95.第二次基測〕



- (A)已開發國家致力降低貧富差距 (B)開發中國家多為貿易轉運中心 (C)中等經濟地區的貿易獲利最大 (D)貧窮國家未從貿易中大量獲利。
25. () 課堂上，同學們針對全球化的議題進行討論，下列哪位同學的發言正確？
 (A)榆鈞：以多種面向快速流動，每種面向相互重疊、交互影響 (B)志翔：因為科技及交通運輸等因素的改善，才興起的新概念 (C)元廷：可透過有形的跨國企業擴張，但不能傳導無形的文化 (D)詒真：有助於經濟發展，縮短各國貧富差距，促進勞工權益。

26. () 郁筠看到一則新聞(如附圖),她決定以它作為寒假作業的主題,用來說明某種現象的發生。請問:郁筠所探討的主題應為下列何者?



- (A)國際分工 (B)族群衝突 (C)文化交流 (D)全球關連。
27. () 網友在社群網站上轉傳一則活動訊息,根據以下內容判斷,下列何者的理解最正確?

分享

世界上有許多女孩身處惡劣環境,沒有機會上學、承受暴力、陷入人口販賣危機等,臺灣世界展望會邀請您加入資助行列,幫助在世界那一端受困的女孩,讓她們有機會重獲新生。

- (A)跨國企業善盡社會責任 (B)政府機構給予人道關懷 (C)國際組織進行學術交流 (D)民間團體關注國際議題。
28. () 許多企業研發各種可再生使用的產品,以減少地球資源的消耗,同時也改採視訊會議的方式來開會,以減少員工在交通往返上所花費的金錢與產生的汙染。上述做法的目的是為了符合下列哪一種概念?〔99.第二次基測修訂〕
(A)跨國企業的結合 (B)交通技術的革新 (C)網際網路的應用 (D)環境永續的推動。
29. () 附表為丹丹週日白天的行程,從表中內容可看出與下列何者最相關?

時間	行程
09:00 ~ 10:30	收看外籍教師線上英文教學課程
11:00 ~ 13:00	與來自菲律賓的交換學生吃午餐
14:30 ~ 15:30	與在中國工作的爸爸視訊
16:00 ~ 17:30	透過網路了解國際一週大事

- (A)商業快速發展 (B)交通運輸發達 (C)全球化的影響 (D)地球村的挑戰。
30. () 附圖中的對話可用來說明資訊科技發達造成下列何種隱憂?



- (A)資訊氾濫造成內容真偽難辨 (B)資訊公開可能侵犯個人隱私 (C)網路犯罪危及民眾私人財產 (D)網路使用者成為散播假訊息的傳遞者。
31. () 由附圖中的對話內容判斷,彩勳所指的法律應為下列何者?



- (A)《專利法》 (B)《商標法》 (C)《著作權法》 (D)《社會秩序維護法》。

32. () 同學會中許久不見的朋友互相分享近況，如附圖。如果要為對話內容下一個標題，下列何者最適合？



(A) 全球化幫助解決人力不足問題 (B) 人才在全球快速流動 (C) 每個人受全球化的影響有差異 (D) 全球化造成失業率上升。

33. () 隨著電腦與網路結合後，資訊科技廣泛運用在各種領域中，智慧型手機的普及，更讓全球民眾打破時間與空間的限制。住在基隆的小浚，若想在 12 月 1 日時，準時收看英國當地時間下午 1 點的英格蘭足球超級聯賽，他應該在幾點時收看？

(A) 上午 8 點 (B) 下午 8 點 (C) 下午 9 點 (D) 上午 9 點。〔一上地理 1-3、公民 1-1〕

34. () 下列哪些活動有助於我國國際文化藝術的交流或推展？(甲)「臺北多媒體大展」各大品牌齊聚(乙)我國「大觀舞集」赴新南向 3 國巡演(丙) 7 支國際知名合唱團來臺參與「臺北國際合唱音樂節」盛會(丁)百老匯經典音樂劇《美女與野獸》來臺表演

(A) 甲乙丙 (B) 乙丙丁 (C) 甲丙丁 (D) 甲乙丁。

35. () 我國法律保障人民的智慧財產權，根據附圖判斷，偉群所發明的成果最可能為下列何者？



(A) 多功能拖把 (B) 科幻小說 (C) 獨創舞步 (D) 雲朵攝影照片。

36. () 許多企業研發各種可再生使用的產品，以減少地球資源的消耗，同時也改採視訊會議的方式來開會，以減少員工在交通往返上所花費的金錢與產生的汙染。上述做法的目的是為了符合下列哪一種概念？〔99.第二次基測修訂〕

(A) 跨國企業的結合 (B) 交通技術的革新 (C) 網際網路的應用 (D) 環境永續的推動。

37. () 個人參與國際社會的管道很多，附圖中兩人採取的是何種方式？



(A) 促進文化交流 (B) 付出實際行動 (C) 關心國際事務 (D) 創辦國際組織。

38. () 2003 年，SARS 疫情肆虐全臺，當時受到居家隔離的學生只能在家自習。2021 年，新型冠狀病毒疫情嚴重，政府宣布三級警戒，但學校師生可透過各式線上平臺學習。下列何者最適合用來說明 2003~2021 年學習方式所產生的變化？

(A) 網路的普及使溝通更即時，也大幅提升學生媒體識讀的能力 (B) 教師能透過通訊科技監控學生的生活、掌握學生的學習狀況 (C) 科技運用於電腦輔助教學與學習平臺，使學習不受時空限制 (D) 透過社群媒體，可號召學生組成社團，並實際參與公共事務。

39. () 下列為介紹某一組織的資料：

(一)「會員國由原來 6 國，歷經數次擴增，現在已有 28 個會員國。」
(二)「開放會員國間的人員、貨物、勞務、資金相互流通，減少組織內的貿易障礙，發行共通貨幣，為區域統合樹立了典範。」

此一組織應是下列何者？〔99.第二次基測修訂〕

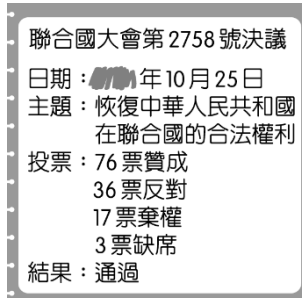
(A) 亞太經濟合作會議 (B) 世界貿易組織 (C) 東南亞國協 (D) 歐洲聯盟。

國立中科實驗高級中學 114 學年度第 2 學期【九年級公民與社會科】補行評量題庫

範圍:翰林版第六冊第 1-3 課

班級: 座號: 姓名:

40. () 附圖是阿菲翻閱聯合國相關資料的部分內容，根據內容判斷，這份文件應該是在哪一年表決通過？



- (A) 1945 年 (B) 1949 年 (C) 1971 年 (D) 1979 年。
41. () J.K.羅琳控告美國某出版社與一名粉絲計畫出版《哈利波特》系列的非官方百科全書，該書詳細說明與分析小說中的人物、魔法與情節等。J.K.羅琳認為該書內容大量抄襲原著文字與設定，侵犯其著作權。關於上述案例所涉及的《著作權法》，下列敘述何者正確？
(A) 只要出於學術研究目的，便可自由引用大量原著內容 (B) 儘管大量引用原著內容，但只要是二次創作便未侵權
(C) 該書雖然只是解釋原著內容，仍須符合合理使用原則 (D) 《著作權法》保護範圍不包括故事角色、情節等設定。
42. () 由下列對話判斷，他們最可能是在討論全球化所面臨的哪一項挑戰？
小芳：「我們學校附近新開的跨國連鎖餐飲店，主打漢堡、炸雞和可樂，原本賣米粉湯的老店前陣子因生意不好而歇業了。」
小傑：「我也注意到，某國際知名運動品牌的鞋款在我們校園中廣受歡迎，影響不少人的穿著風格。」
(A) 文化衝突的現象增加 (B) 財富分配不均的問題 (C) 文化走向單一化危機 (D) 跨國企業的規模縮小。
43. () 我國為了擴展國際參與，多年來積極參加各類政府間組織與非政府組織及相關活動。在政府間組織方面，根據外交部的統計，目前我國在 37 個政府間國際組織及所屬機構擁有會籍。根據上述，我國應該擁有下列哪一政府間的國際組織的會籍？
(A) 世界衛生組織 (B) 國際刑警組織 (C) 國際特赦組織 (D) 世界貿易組織。
44. () 網路流傳只要喝檸檬水就能完全預防感冒，有專家指出，雖然檸檬水中的維生素 C 對健康有幫助，但單靠喝檸檬水並不能完全預防感冒。提醒民眾，類似缺乏科學依據的健康說法，常常都是謠言，建議小心求證，勿引起恐慌。上述事件凸顯出科技發展帶來的哪一項問題？
(A) 個人資料外洩 (B) 訊息真假難辨 (C) 影響人際溝通 (D) 破壞生態環境。
45. () 政府遷臺後，臺海局勢緊張加劇，1956 年後將金門與馬祖畫為戰地政務區，對當地民眾實施各種管制，使得民眾日常生活備受限制。直至 1992 年才解除戰地政務，並通過金門綜合開發計畫，協助當地重建停滯的經濟活動。按照行政院公布的國土空間發展策略計畫，金門與馬祖是屬於何種階層？
(A) 海洋環帶 (B) 創新發展軸 (C) 生態觀光區 (D) 優質生活產業軸。〔一下地理 6-2、公民 3-2〕
46. () 食物是人類維持生存的必需品，但世界上卻不是人人都能夠吃飽喝足，因此，聯合國在 1945 年 10 月 16 日成立糧食與農業組織，希望能有效管理全球糧食系統，讓更多人擺脫飢餓；後來更進一步將這一天訂為世界糧食日，希望藉由訂定這個主題日呼籲大眾關注糧食議題。上述國際組織的分布區域及成員性質，與下列何者最類似？〔110.會考修訂〕
(A) 歐洲聯盟 (B) 世界展望會 (C) 世界貿易組織 (D) 國際綠色和平組織。
47. () 以下摘錄自某流行時尚雜誌的文章：「……串流媒體平臺上充斥著韓劇，防彈少年團的音樂總是從我們的耳機裡流竄出來，BLACKPINK 也總能奪走我們的目光。我們更好奇的是韓劇中的女演員們到底是用了什麼化妝品或保養品，能讓肌膚吹彈可破。當然我們不得不承認，家裡的冰箱還有些韓國泡菜還沒吃完。」上述現象可能造成的影響，用下列哪一句話來詮釋會最貼切？
(A) 全球化可能促使文化趨向單一化 (B) 跨國企業影響各地休閒生活型態 (C) 全球文化與本土文化的共存融合 (D) 韓國傳統文化成為全球主流文化。
48. () 苗栗縣公館鄉是全臺唯一紅棗專業產區，有鑒於市面上充斥中國紅棗冒名混充銷售，因此當地農會向經濟部智慧財產局註冊推出「公館紅棗產地團體商標」，必須通過藥檢合格的紅棗產品才能取得授權商標，讓消費者清楚區別公館紅棗及進口紅棗，食用更安心。上述農會註冊推出產地商標的作法，能達到何種目的？
(A) 增進公共利益 (B) 智慧成果共享 (C) 確保資訊安全 (D) 強化媒體識讀。
49. () 新聞報導：「武器是國際經濟體系中搶手商品，例如坦克、飛彈兼具軍事與經濟的效益。賣武器的國家可獲得經濟利潤，買武器的國家則可發揮軍事用途，唯武器銷售偶會受到他國的干預。」根據上述內容判斷，旨在說明下列哪一項意涵？〔95.第二次基測修訂〕
(A) 軍備採購影響國家安全 (B) 經濟資源決定國際地位 (C) 跨國公司掌控武器銷售 (D) 經濟與政治力量相結合。
50. () 外電消息：「一艘從利比亞托布魯克出發欲前往義大利的船隻，船上超載了來自埃及、敘利亞和巴基斯坦的偷渡客，14 日凌晨在希臘外海翻覆沉沒，已尋獲至少 78 具遺體，但僅救起 104 人，還有數百人恐怕凶多吉少，成為歐洲近年來最致命的船難之一。」上述國際新聞的事件，應屬於全球化哪一議題的類型？
(A) 貧富差距議題 (B) 難民議題 (C) 移民議題 (D) 文化議題。

51.

國立中科實驗高級中學 114 學年度第 2 學期【九年級公民與社會科】補行評量題庫

範圍:翰林版第六冊第 1-3 課

班級: 座號: 姓名:

- 1.(A) 2.(B) 3.(A) 4.(C) 5.(D) 6.(B) 7.(B) 8.(C) 9.(C) 10.(D) 11.(C) 12.(C) 13.(C) 14.(B) 15.(B) 16.(D) 17.(D) 18.(A) 19.(C) 20.(A) 21.(D) 22.(B) 23.(D) 24.(D) 25.(A) 26.(D) 27.(D) 28.(D) 29.(C) 30.(C) 31.(A) 32.(C) 33.(C) 34.(B) 35.(A) 36.(D) 37.(B) 38.(C) 39.(D) 40.(C) 41.(C) 42.(C) 43.(D) 44.(B) 45.(C) 46.(C) 47.(A) 48.(A) 49.(D) 50.(C)