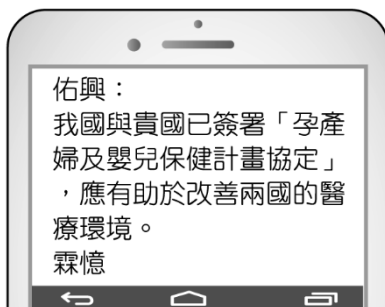


一、單題（每題 2 分，共 100 分）

1. ( ) 附圖為快樂國的佑興收到一則幸福國網友傳來的簡訊，內容中快樂國與幸福國所進行的這項外交互動，顯示哪一項國家組成要素的重要性？



- (A)政府 (B)人民 (C)領土 (D)主權。
2. ( ) 《公民投票法》第 1 條：「依據《憲法》主權在民之原則，為確保國民直接民權之行使，特制定本法。本法未規定者，適用其他法律之規定。」該法之制定，最能展現何項民主政治的特色？  
(A)民意政治 (B)責任政治 (C)政黨政治 (D)法治政治。
3. ( ) 公務員職場霸凌事件對公務體系造成衝擊，勞動部部長因此請辭下臺。為了有效防範與治理職場霸凌，考試院院長擬將修訂《公務人員保障法》及《公務人員安全及衛生防護辦法》列為首要議題。根據上述判斷，何者最符合「法治政治」的概念？  
(A)政府官員若違法，須負起法律責任 (B)政府的運作須考量民意，並以民意為依歸 (C)政府實施此項改革，須依法行政 (D)在野黨應善盡責任，監督執政黨。
4. ( ) 欣樺瀏覽到一則過去新聞事件的後續追蹤報導，根據以下內容判斷，下列何者較符合文中意涵？


**今天買到雞蛋了嗎？**

民國 111、112 年由於國內產蛋量嚴重不足，蛋價居高不下，各大賣場雖然限制每個人的購買量，仍舊發生「一蛋難求」的吃緊狀況。為了減緩蛋荒，滿足民眾食用需求，政府與廠商簽訂專案，引進外國雞蛋應急。但當初的採購過程似未能遵守既定的法定規章，因而受到民意代表的質疑與社會大眾的批評，全案已交由調查單位進行釐清，以做適當的處置。

- (A)政策失敗導致人民權益受損，政黨領導人須辭職負責 (B)任何公共政策的決定，應透過公開選舉傾聽民眾意見 (C)在野黨未能有效監督政府施政，失去政黨政治的意義 (D)政府運作受到法律限制，採行所有措施均須依法行政。
5. ( ) 擔任政府採購人員的阿盛，涉嫌接受廠商的賄賂，而被移送法辦。阿盛因違法而負起法律責任，是何種民主政治特色的展現？  
(A)民意政治 (B)責任政治 (C)法治政治 (D)政黨政治。
6. ( ) 附圖兩人對話中，□□應是指下列何者？



- (A)立法院 (B)總統 (C)經濟部 (D)公民。
7. ( ) 警察執行勤務時，必須依據《警察職權行使法》的相關規定，而進行路檢時，亦不能全面性路檢所有通過車輛。法律對警察執行勤務有諸多的限制，其目的在落實法律的何種功能？  
(A)維持社會秩序 (B)保障人民權利 (C)促進社會進步 (D)解決社會衝突。
8. ( ) 依照我國法律位階來判斷，附圖中發言人提及的法令應為下列何者？



- (A)《國民教育法》 (B)《性別平等教育法》 (C)《學生輔導法施行細則》 (D)《教育人員任用條例》。
9. ( ) 班上同學在班級群組中討論班規的性質，根據以下內容判斷，下列何人的認知最正確？

每個同學都必須遵守班規，班規是法律的一種嗎？

小彤：班級是學校內的自治團體，班規是位階比較低的法律。

小豪：只有經過立法院依法定程序通過的法規，才是法律。

小穎：班規的條文並不抵觸《國民教育法》，因此被視為命令。

小威：班規不具有公權力賦予的強制力，

並不屬於法律。

(A)小彤 (B)小豪 (C)小穎 (D)小威。

10. ( ) 依《兒童及少年福利與權益保障法》第 33 條之一訂定，公共停車場應於靠近停車場電梯、人行出入口或管理室等處設孕幼停車位。某政府部門日前公布《孕婦及育有六歲以下兒童者停車位設置管理辦法》，未來包括鐵路車站、航空站及捷運轉乘站、百貨、觀光遊樂業、醫院及民眾申辦業務政府機關為先，其餘停車場最晚於 107 年 12 月 16 日前，設置最少 2% 的停車位，否則得以開罰一至五萬元。上文的「孕婦及育有六歲以下兒童者停車位設置管理辦法」最可能是由下列何者訂定公布？

(A)立法院 (B)制憲國民大會 (C)交通部 (D)各縣(市)議會。

11. ( ) 附表是「自由權」與「受益權」的比較，表中何者內容有誤？

項目	自由權	受益權
法源依據	《憲法》	《憲法》
內涵	防止國家公權力不當作為的權利	人民要求國家，使自己享受特定利益的權利
屬性	是人民的基本權利	是人民的基本權利
舉例	請願	訴願

(A)法源依據 (B)內涵 (C)屬性 (D)舉例。

12. ( ) 「訴願」是人民基本權利之一，下列相關敘述何者正確？

(A)是人民為個人或公眾利益向行政機關尋求協助的方法 (B)進行訴願前一定要先經過請願程序 (C)訴願是人民的參政權之一 (D)人民可向行政機關提起訴願。

13. ( ) 原住民族有狩獵的傳統，認為在自己的傳統領域上狩獵不應被限制，但卻屢屢傳出狩獵山羌、山羊等保育野生動物被捕的案件。受限於法律的限制，原本習以為常的狩獵文化現在卻須經過申請核准才行。上述呈現哪兩種不同權利間的衝突？

(A)自由權與生存權 (B)自由權與多元文化權 (C)環境權與多元文化權 (D)自由權與環境權。

14. ( ) 「臺灣新電影」初期代表作《兒子的大玩偶》，在正式上映前，因電影片段中呈現臺北違建林立等有礙政府形象的畫面，遭官方施壓要求刪減，此事件後來被稱為「削蘋果事件」。最後借助影視記者楊士琪等人的聲援，才使得電影逃過被刪剪的命運。上述事件中，國家企圖限制的人民權利類型，與下列何者最相似？【113 年會考修訂】

(A)法院做出監護宣告，剝奪創制、複決等權利 (B)剝奪貪污罪犯應考公職的資格 (C)禁止過度血腥暴力影像的出版 (D)要求外國旅客入境應接受審查。

15. ( ) 某國網友在群組討論政府欲推動的新措施，依照對話內容判斷，該政策引發民眾不滿，應是認為其措施違反《憲法》保障人民的何種權利？

#### 群組聊天

杰克：變種病毒讓每天的確診數又提高了。

瑪莉：政府準備強制大企業員工接種疫苗和定期檢測病毒，違反者將會被罰款。

約翰：很多民眾認為政府的決議侵害他們的工作權，所幸最高法院已經否決這項政策。

(A)平等權 (B)自由權 (C)受益權 (D)參政權。

16. ( ) 附表為有關「請願」和「訴願」的比較，何項內容出現錯誤？

項目	請願	訴願
提起原因	人民對國家政策、公共利益或自身權益的維護	行政機關違法或不當的行政處分
受理對象	民意機關	原處分機關或上級機關
目的	僅為願望的陳述	要求撤銷或變更原處分
舉例	請求政府機關重視流浪動物權益	人民不服要求補稅的行政處分

(A)提起原因 (B)對象 (C)目的 (D)舉例。

17. ( ) 大法官釋字第 649 號解釋認為《身心障礙者保護法》第 37 條規定：「非視覺功能障礙者，不得從事按摩業。」限制非視覺障礙者從事按摩業，涉及對人民職業自由的限制，且並未考量其他可能的替代措施，違反《憲法》第 23 條所定之比例原則，因此認定違憲。上述大法官釋字第 649 號主要在確保非視障者的何項權利？

(A)自由權 (B)平等權 (C)受益權 (D)參政權。

18. ( ) 在法律制定的過程中，可能因為部分利益團體向民意代表施壓，使立法機關所制定的法律忽略多數民意。下列何項權利的行使，有助於補救上述的缺失？[100.第二次基測]

(A)受益權 (B)訴願權 (C)複決權 (D)服公職權。

19. ( ) 臺北市大安區新生南路與和平東路交叉口的陸橋已興建超過 40 年，承載老臺北人的共同記憶，四邊通行有頂蓋的設

計，是市民跨越馬路時最安全的選擇，許多文化作品例如：電影、小說亦是取景於此。但由於馬路拓寬、行人行進路線重新規畫，陸橋的使用率大為降低，臺北市政府基於橋梁年限與結構安全決議拆除。有民眾發起守護天橋的活動，簽署聯署書表達意見，並至臺北市議會抗議，希望政府也應考量城市歷史景觀代表的文化價值。根據上述，下列說明何者正確？

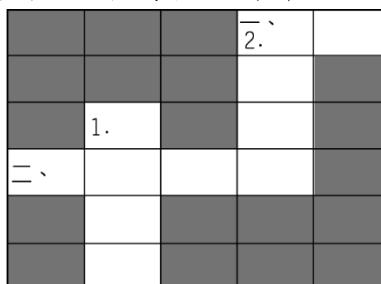
(A) 民眾集結抗議是《憲法》賦予的結社自由 (B) 反對拆除的民眾可向臺北市政府提起訴願 (C) 可以善用創制權要求臺北市政府修改決議 (D) 透過連署書闡述意見，是表現自由的展現。

20. ( ) 電子媒體舉辦一項公共議題的民意調查，參與者的票數比例如附表，對於題目中該項權利的行使，下列何者解讀完全正確？

題目：你是否贊成將選舉權下修到 18 歲？	
贊成，18 歲已經心智成熟	88%
反對，18 歲尚不適合做重大決定	9%
沒意見	3%

(A) 《憲法》中保障人民充分參與政治的權利 (B) 人民採取投票方式對政策表達同意或反對 (C) 人民可要求國家有所作為以享受特定利益 (D) 由人民主動提出立法原則，或者制定政策。

21. ( ) 秀芳正在嘗試完成報紙上的填字遊戲，如附圖所示。根據提示判斷，「直 2」應填入下列何者？



直的提示

1. 法國思想家孟德斯鳩的主張。  
2. 現代國家中央政府體制設計的原則。

橫的提示

- 一、艾克頓爵士的政治名言指出使人腐化的原因。  
二、我國獨特的中央政府體制。

(A) 三權分立 (B) 權力分立 (C) 五權分立 (D) 主權在民。

22. ( ) 宇翔在公民課時報告三權分立中的某一權，根據附圖中宇翔的說明判斷，他所報告的權力應為下列何者？

我的立場超出黨派之外，依法獨立行使職權，監督行使其他兩權的機關是否濫權。



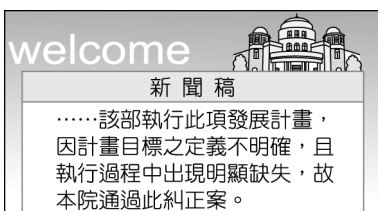
(A) 考試權 (B) 監察權 (C) 立法權 (D) 司法權。

23. ( ) 禎涵翻閱期刊時看到一篇研究分析，根據以下內容判斷，關於此爭議的重點，下列說明何者最正確？

本次修法爭議在於政府機關因業務需要以簽約方式短期聘用專業技術人員，但未來若符合資格標準，該人員所擔任的職務應是透過考試院法定程序考取資格的正式職缺，因此質疑行政部門是否藉此廣開後門任用私人，違反我國《憲法》規範中央政府體制的職權設計。所幸最後相關規定並未納入正式條文之中。

(A) 監察權無法確實監督政府機關 (B) 行政權未能遵守權力分立原則 (C) 考試權難以發揮公正舉才功能 (D) 立法權背棄《憲法》人權精神。

24. ( ) 附圖是我國中央政府某院在其官方網站上發布的新聞稿。根據圖中內容判斷，該院依其職權，最可能在其網站中發布下列何項訊息？〔103.會考〕



(A) 7 月將要舉辦公務人員高等考試 (B) 本會期將行使審計長人選同意權 (C) 公布釋字第六六六號憲法解釋文 (D) 98 年度決算報告已完成審定。

25. ( ) 空拍機自由飛行、突破地表障礙的特性雖然迷人，但最近因有民眾使用空拍機時，違反了《民用航空法》而遭到主管機關開罰，此一事件引發社會大眾關切空拍機可能侵犯隱私、失控墜落、影響飛安等問題，也凸顯現有法令尚未完備，因此各界呼籲中央政府機關應盡速通過三讀程序，修訂相關法律加以規範。上述的中央政府機關，其職權包括下列何者？【106 年會考修訂】

(A) 提出糾正案 (B) 提出不信任案 (C) 依法律推行政策 (D) 統一解釋法律命令。

26. ( ) 我國對於違法或失職的公務人員設有彈劾制度。根據附圖中兩人的對話內容推斷，此彈劾案的提出者與對象依序為何？



- (A)立法委員、總統副總統 (B)司法院大法官、總統副總統 (C)監察委員、行政院院長 (D)立法委員、行政院院長。
27. ( ) 總統可以發布「緊急命令」，這是總統很大的權力，一旦生效後，總統所有的施政可以跳過立法院，直接行使權力。為了避免總統濫用「緊急命令」權力，《憲法》的規定如何限制總統的這項權力？  
(A)須經行政院會議之決議同意即生效 (B)總統可以基於任何事由發布緊急命令 (C)立法院不同意時，緊急命令立即失效 (D)發布緊急命令後，立法院必須在 7 日內追認。
28. ( ) 政府的主要收入來源是人民的納稅，每年會根據收入狀況來決定可編列的預算金額。在編製預算時，(甲)將其分為「法定義務支出」與「非法定義務支出」。前者是指法律明確規定政府必須負擔的開支，即使財政困難也不得減少；後者則通常由各機關提出計畫，這部分也成為(乙)審查的重點。依據現行法律規定，有關(甲)、(乙)的敘述何者正確？  
(A)(甲)為立法院 (B)(乙)為監察院 (C)(甲)負責執行預算、做成決算 (D)(乙)負責審核決算。
29. ( ) 以下是媒體在一場記者會中所作的報導，根據內容判斷，關於該名官員受到某機關依職權處置的說明，下列何者正確？
- 新聞特報**  
一名政府官員傳出涉嫌工程弊案，遭監察機關依職權提案糾舉，該名官員即刻被調離原職位，避免接觸工程相關業務，防止行政不中立的情事發生。
- (A)對象須為中央公務人員 (B)交由懲戒法院負責處理 (C)立法院決議同意後施行 (D)向被糾舉人的上級長官提出。
30. ( ) 以下是(甲)依職權做出的裁示，根據內容判斷，關於(甲)所擔任的公職，下列敘述何者正確？
- 判決摘要**  
公務人員於立法院受質詢若作虛偽不實的陳述屬於政治責任的範圍，若處以法律責任並不適當，且超越《憲法》賦予立法院的權限，該項法律條文因違反我國《憲法》規定，自本判決宣示之日起，失其效力。
- (A)經由決議提出《憲法》修正案 (B)負責審理總統、副總統彈劾案 (C)審核行政機關的年度決算 (D)對不當施政的行政機關提出糾正。
31. ( ) 以下為一名網友在社群網站上的發問，許多人留言提供解答，下列哪一個回覆最正確？
- 罷免**  
有民眾在網路參與平臺提議罷免現任總統與副總統，雖然沒有人附議，但我很好奇法律的規定，哪位大神可以解說一下罷免總統、副總統的正式流程？
- (A)立法院有權提案罷免 (B)與彈劾案決議方式相同 (C)最後由選舉人投票複決 (D)由憲法法庭判決。
32. ( ) 媒體識讀是當今社會所必備的能力，閱聽人應該要具備一定的素養去判斷媒體內容。下列為四則報紙的新聞標題，根據上述判斷，何者是正確的報導標題？  
(A)修憲案最終並未通過，監察院院長責無旁貸 (B)一票之差！昨日立法院否決行政院副院長任命案 (C)關於公務人員考績考核標準，銓敘部對此做出回應 (D)《職業安全衛生施行細則》通過，將由司法院公布。
33. ( ) 《公務員服務法》規定公務員不得兼職或經商，銓敘部在 2016 年已建構公務員經商兼職的查核平臺，定期調查現職公務員是否有違反的情事發生。勳瑞想要擔任公務員，因此前往上述主管此業務的中央政府機關網頁查詢相關資料。他瀏覽的資訊中，下列何者屬於該機關的職權說明？  
(A)懲戒違法失職的公務人員 (B)對行政機關提出糾正案 (C)審查中央政府的總預算 (D)舉辦技術人員國家考試。
34. ( ) 為了解中央政府機關的權力行使，班上同學每組自由選定五院中的任一機關作為報告主題，以下是第四組蒐集的新聞資料，根據內容判斷，(乙)機關所具有的職權為下列何者？
- (甲)機關編列下一年度中央政府總預算 3 兆 1,534 億，最大宗為社會福利支出，占 26.5%，其次為教育科學文化 19.3%、經濟發展 17.2%及國防 14.9% 等。(乙)機關在經過長達 20 個小時的審查程序後，粗估約刪減 2,076 億元，刪減金額為歷年最高。
- (A)提出總統副總統罷免案 (B)執行預算並做成決算 (C)審核各機關年度決算 (D)提名或任命行政院各部會首長。
35. ( ) 監察院對「甲」提出糾正案，因為其執行的觀光劇場計畫沒有發揮預期效益，工程規畫草率。上述所提到的「甲」最可能是下列何者？  
(A)立法委員 (B)臺北市府 (C)文化部部長 (D)立法院。
36. ( ) 附表是我國某一項公職人員選舉的開票結果。根據表中內容判斷，此項選舉所選出的公職人員應具有下列何項職權？  
〔110.會考〕

○○市第二選區第 59 號投開票所開票結果				
候選人得票數				
候選人	① 王大銘	② 趙小虹	③ 康自強	
得票數	203 票	1046 票	344 票	
政黨得票數				
政黨	甲黨	乙黨	丙黨	丁黨
得票數	1039 票	89 票	326 票	159 票

(A)依法公布法律、命令 (B)編列中央政府的預算 (C)質詢地方政府的行政官員 (D)提出總統、副總統彈劾案。

37. ( ) 最新消息：「花蓮發生強震，於秀林鄉測得最大震度 6 強，縣內多棟建築物傾斜倒塌，餘震不斷，為維護民眾安全，全縣停班停課一天。行政院內政部火速成立中央災害應變中心，協助受困災區搜救及救災物資的運送補給。」根據上述新聞判斷，關於地方政府的運作和組成，下列何項敘述正確？

(A)發布即刻停班停課消息屬於中央政府的權限 (B)內政部與花蓮縣政府兩者權力彼此相互制衡 (C)最大震度地區與花蓮市屬相同地方政府層級 (D)花蓮縣政府可交付縣內區公所從事災後復原工作。

38. ( ) 關於以下新聞中的地方行政區，下列說明何者正確？

**生活快報**

地方政府擴大偏鄉地區的就醫補助對象，增加三個山地原住民鄉鎮的交通補助範圍，有助於提升偏遠地區孕、產婦做生產前後檢查的比例，不僅可以提早發現高風險孕婦，更能保護新生兒的健康。

(A)原住民區民代表由選舉產生 (B)地方行政首長由行政院指派 (C)文中所提地區均屬於自治團體 (D)最高政府層級為直轄市政府。

39. ( ) 公民老師讓同學觀看某議會開會的電視轉播，看完後，同學們紛紛表達意見。下列何人的說法最正確？

(A)大中：市長有權制定地方自治條例 (B)阿虎：議員正在編列明年地方的預算 (C)小辰：行政院院長必須接受議員的質詢 (D)小靜：我終於見到議員質詢行政官員的實況。

40. ( ) 新聞報導：新竹縣及縣內的竹北市人口成長快速，若照目前的增長速度推估，到了 2018 年底舉辦地方選舉時，依據相關法律的規定，竹北市選民所能選出的地方民意代表席次，都各將增加一席。上述報導中所指稱的地方民意代表，應為下列哪一組合？〔108.會考〕

(A)市議員、立法委員 (B)縣議員、立法委員 (C)市議員、市民代表 (D)縣議員、市民代表。

41. ( ) 「連下了兩天的雨，讓臺北市的馬路坑洞增多。為了改善道路品質，市府著手規畫將限制管線單位挖路時段，並採三級品管以避免修路弊案。」上述屬於地方政府的哪一項職權？

(A)社會福利 (B)教育文化 (C)安全衛生 (D)經濟發展。

42. ( ) 上完「地方政府」單元後，公民老師出了一份關於「地方行政機關」的報告當作業，下列哪個機關不會是學生的選項？

(A)基隆市政府 (B)臺南市新營區公所 (C)花蓮縣政府 (D)高雄市那瑪夏區公所。

43. ( ) 光範未來想在政府機關工作，趁著環島的行程到各級地方政府去參觀其行政與立法機關，下列地方行政機關與地方立法機關的配對，何者正確？

(A)馬公市政府—馬公市議會 (B)臺南市南區區公所—臺南市南區區民代表會 (C)員林市公所—員林市民代表會 (D)基隆縣政府—基隆縣議會。

44. ( ) 「第二屆旗山馬拉松開跑如附圖，吸引近六千位跑友共襄盛舉。主辦單位旗山區公所表示，很高興有機會能將香蕉與路跑賽事結合，不僅能推動當地特色，也為蕉農帶來穩定收入，而湧入的大量跑友，更為旗山帶來可觀的觀光效益。」高雄市舉辦這類體育活動的經費應該是由下列哪一單位所議決？



(A)高雄市議會 (B)高雄市政府 (C)高雄市民代表會 (D)旗山區公所。

45. ( ) 附圖是里長發的通知單，依通知內容可知應屬於地方政府的哪一項職權？



(A)社會福利 (B)安全衛生 (C)教育文化 (D)經濟發展。

46. ( ) 根據附圖中的新聞報導，此事務應屬於地方政府的哪一項職權？

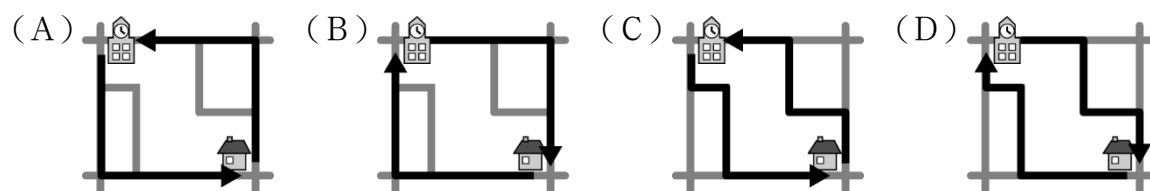
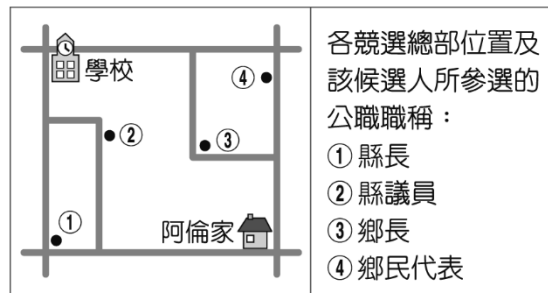


(A)社會福利 (B)教育文化 (C)經濟發展 (D)安全衛生。

47. ( ) 瑞士透過民眾投票的機制，決定是否訂立全國適用的基本薪資規範，此方案若通過，瑞士將擁有全球最高的基本月薪保障（約新臺幣 136,000 元），但勞動市場可能也會因此受到影響，最後投票結果否決了該提案。就我國而言，下列何種情況亦會採行類似的機制做出決定？〔110.會考補考〕

(A)決議覆議案 (B)表決不信任案 (C)追認緊急命令 (D)複決《憲法》修正案。

48. ( ) 阿倫上學途中，路過某候選人的競選總部，看到了「28 歲新人，開創地方行政新氣象」的標語；放學回家，又經過另一位候選人的競選總部，懸掛著「評鑑第一名的民意代表，懇請支持連任」的布條。附圖是阿倫家周邊環境示意圖，根據圖中內容判斷，下列何者最可能是阿倫上學、放學的路線？【107 年會考】



49. ( ) 匡志將選舉過程整理列出下列四項，其中只有哪一項正確？

(A)第一項：候選人須向內政部辦理參選登記 (B)第二項：候選人舉辦競選活動並無特定期間 (C)第三項：攜帶身分證（可用健保卡取代）、印章、投票通知單，前往投票 (D)第四項：投票所計票結果交由主管選務機關統計後公告。

50. ( ) 琦琦姐妹三人決定參選公職人員，根據附圖的對話判斷，下列哪一個組合符合三人的選擇？



(A)直轄市議員、村長、鎮民代表 (B)立法委員、市長、鎮長 (C)鎮長、直轄市山地原住民區長、里長 (D)立法委員、縣長、直轄市山地原住民區民代表。

1.(D) 2.(A) 3.(C) 4.(D) 5.(B) 6.(C) 7.(B) 8.(C) 9.(D) 10.(C) 11.(D) 12.(D) 13.(C) 14.(C) 15.(C) 16.(B) 17.(C) 18.(C) 19.(D) 20.(A) 21.(B) 22.(D) 23.(B) 24.(D) 25.(B) 26.(A) 27.(C) 28.(C) 29.(D) 30.(B) 31.(A) 32.(C) 33.(D) 34.(A) 35.(B) 36.(D) 37.(C) 38.(C) 39.(D) 40.(D) 41.(D) 42.(B) 43.(C) 44.(A) 45.(B) 46.(C) 47.(D) 48.(C) 49.(D) 50.(D)