

一、選擇-：：

1. () 升上九年級的阿強發現原本的生活作息，讓他在白天上課時精神不濟，因此做出下表的修改——

	修改前	修改後
17:00	打球	打球
18:00		補習
19:00	補習	
	洗澡	看書
21:00	看書	
22:30	睡覺	洗澡 睡覺

從表中能觀察出什麼現象？ (A)時間資源是無限的 (B)涉及時間資源的分配與運用 (C)資源只有一種用途所以無需選擇 (D)修改後，睡覺時間才有稀少性問題。

《答案》B

2. () 小明和小美兩人在一家麵包店工作，小明工作 1 個小時可以做 4 個牛角麵包，或是 8 個紅豆麵包；小美工作 1 個小時可以做 5 個牛角麵包，或是 10 個紅豆麵包。下列有關小明和小美製作兩種麵包的機會成本，何者正確？ (A) 小明製作 1 個牛角麵包的機會成本是 1/2 個紅豆麵包 (B) 小明製作一個紅豆麵包的機會成本是 4/5 個牛角麵包 (C) 小美製作一個牛角麵包的機會成本是 4/5 個紅豆麵包 (D) 小美製作一個紅豆麵包的機會成本是 1/2 個牛角麵包。

《答案》D

3. () 週刊報導：「由於美元持續反彈，新臺幣面臨沉重的貶值壓力，近一個月以來，新臺幣兌換美元匯率已由 31.2 元兌換 1 美元，變成 32.8 元兌換 1 美元。」根據內容判斷，新臺幣匯率變動所造成的影響為何？ (A)廠商進口美國貨物的成本降低 (B)出口我國貨品至美國的利潤減少 (C)有助於我國貨物出口至美國 (D)此時購買美國進口商品較便宜。

《答案》C

詳解：原本新臺幣 31.2 元可以兌換 1 美元，現在變成 32.8 元才能兌換 1 美元，表示新臺幣貶值，國內商品相形之下較之前便宜，有助於我國貨物的出口。

4. () 一顆茶葉蛋 8 元、一臺電腦價值新臺幣 20,000 元、一輛腳踏車 7,000 元。從上述的「8 元」、「20,000 元」、「7,000 元」可以看出貨幣的何種功能？ (A)交易媒介 (B)債務清償 (C)價值衡量 (D)價值儲存。

《答案》C

5. () 2013 年，巴西幣貶值，幣值創四年來低點，連帶影響該國的進出口貿易。若其他條件不變的情況下，此幣值波動對巴西咖啡產業造成的影響，下列何者正確？ (A)巴西為出口國，此種波動有利咖啡出口 (B)巴西為出口國，此種波動不利咖啡出口 (C)巴西為進口國，此種波動有利咖啡進口 (D)巴西為進口國，此種波動不利咖啡進口。
【104 教育會考】

《答案》A

詳解：咖啡喜歡生長在日照充足、多雨(年降水量約 1,000~1,250 mm)的山坡地，因此以赤道為中心到南、北緯 25 度是主要分布區，稱之為「咖啡帶」，巴西是其中最大生產國。題幹提及「巴西幣貶值」，表示出口商品咖啡變便宜，會使貿易往來國購買意願提高，該國出口商可以出口較多的商品到國外，出口商品的利潤相對增加，則有助於該國商品出口。

6. () 隨著氣候變遷加劇，極端氣候不斷出現，二氧化碳減量成為各國重要的課題。歐盟以總量管制限制各國二氧化碳排放量，並採取「排放量交易機制」，企業依該國可排放的總量，競標購買可排放量。關於上述方式，下列何者正確？ (A) 歐盟運用非金錢誘因而達到目標 (B) 歐盟以正向誘因促使企業增加排放量 (C) 排放量交易制度屬於金錢誘因 (D) 歐盟管制排放量是為了金錢考量。

《答案》C

7. () 小圓便當店每天僅製作 400 份便當，每份成本 50 元，售價 60 元，為了保持品質，當天沒賣完的便當會全部丟棄，附表為近日消費者對該店便當的需求狀況。根據表中資料判斷，下列何者正確？ (A) 總收入為 90,000 元 (B) 共賣出 1,600 份便當 (C) 5 月 3 日獲利 4,500 元 (D) 總生產成本為 85,000 元。【103 教育會考】

日期	需求數量(份)
5 月 1 日	400
5 月 2 日	300
5 月 3 日	450
5 月 4 日	550

《答案》A

詳解：(D) 由於每天都生產 400 份，所以總生產成本應為 $1,600 \times 50 = 80,000$ 元。(B) 因 5 月 1 日賣出 400 份，5 月 2 日賣出 300 份，5 月 3 日賣出 400 份(有 50 份的需求是買不到的)，5 月 4 日賣出 400 份(有 150 份的需求是買不到的)，所以共賣出 $400 + 300 + 400 + 400 = 1,500$ 份。(C) 5 月 3 日共獲利 $400 \times (60 - 50) = 4,000$ 元。(A) 總收入為 $1,500 \times 60 = 90,000$ 元。

8. () 小花喜歡看後宮系列的連續劇，其中她最喜歡的片段為「皇上選妃」。下圖為小花整理皇上選妃的過程，假設皇上僅依自己的好感度高低來選妃，且太后要求皇上這梯次的選妃只能選 1 位。根據圖中內容判斷，皇上對 3 位姑娘的好感度，由高至低依序可能為下列何者？ (A) 春天、夏天、秋天 (B) 春天、秋天、夏天 (C) 秋天、夏天、春天 (D) 秋天、春天、夏天

一開始太后向皇上推薦春天姑娘、夏天姑娘兩人，皇上選擇了春天姑娘。 春天 <input checked="" type="checkbox"/> 夏天 <input type="checkbox"/>
後來，太后發現遺漏了秋天姑娘，又臨時推薦了她。但是皇上仍選擇了春天姑娘。但是選擇春天姑娘的機會成本卻提高了。 春天 <input checked="" type="checkbox"/> 夏天 <input type="checkbox"/> 秋天 <input type="checkbox"/>

《答案》B

詳解：皇上依好感度高低選妃，從圖中可知春天好感度高於夏天，而加入秋天時，春天依然是首選，可見好感度最高，但選擇後的機會成本變高，所以秋天的好感度高於夏天。

9. () 就讀國中的小凱頻頻惹事，媽媽為了能夠全心全意照顧他，乃辭去某出版社月薪收入 50,000 元的編輯工作，且為了讓小凱能考上公立高中，另外花費 15,000 元請家教老師。小凱媽媽做出這樣的決定，其「機會成本」會是多少？ (A) 15,000 元 (B) 35,000 元 (C) 50,000 元 (D) 65,000 元。

《答案》D

詳解：機會成本除了計算放棄其他機會中價值最高者，也要將做此選擇的實際支出計算在內。因此，小凱媽媽做此決定的機會成本為：捨棄原來的薪資 50,000 元(少賺的) + 請家教 15,000 元(多花的) = 65,000 元。

10. () 小軒的媽媽想以附圖中的方法，養成孩子準時完成作業的好習慣。關於這兩種方法的敘述，下列何者正確？ (A) 兩者皆為金錢誘因 (B) 兩者皆為非金錢誘因 (C) (甲) 為金錢誘因，(乙) 為非金錢誘因 (D) (甲) 為非金錢誘因，(乙) 為金錢誘因。

(甲)	晚上 7 點前要完成當日作業，若沒完成當晚不得使用手機。
(乙)	連續 2 週準時完成作業，即可獲得 100 元的零用金。

《答案》D

11. ()臺灣使用信用卡的人數日趨增加，但是信用卡仍無法被當成真正貨幣，其原因為何？ (A)沒有防偽的設計 (B)其屬於商品貨幣 (C)無法被民眾普遍接受 (D)仍須以貨幣清償債務。

《答案》D

12. ()附表為美元兌換新臺幣的匯率變動，琳達在 1 月將 3,000 美元兌換成新臺幣後，來臺灣旅遊時花掉一半，於 3 月回美國前欲將剩餘新臺幣換回美元，四捨五入後應可換回多少美元？ (A)2,021 元 (B)1,987 元 (C)1,888 元 (D)1,607 元。

月 分	美 元	新臺幣
1 月	1	30
2 月	1	29
3 月	1	28
4 月	1	31

《答案》D

13. ()下表是四位應徵者在面試甲、乙兩工作時所開出的時薪條件——

應徵者	甲工作	乙工作
萱萱	250 元	230 元
佳樺	210 元	190 元
盈如	240 元	220 元
曉鈴	280 元	250 元

針對此份資料，哪一項分析是正確的？ (A)若四人都選擇從事甲工作，萱萱的機會成本最大 (B)若甲工作的平均工資為 210 元，則曉鈴最為適合 (C)若四人都選擇從事乙工作，佳樺的機會成本最小 (D)盈如選擇甲工作的機會成本高於乙工作，故很適合。

《答案》C

14. ()新聞不斷報導「雞蛋殘留有害人體的抗生素」的消息，引起消費者不安，蛋價也跟著下跌。此時生產者最可能採取下列何種措施？ (A)增加供給數量 (B)減少供給數量 (C)增加需求數量 (D)減少需求數量。

《答案》B

15. ()下表是好口味點心坊推出三種均一價的產品，每日各供應 30 份，其單日獲利為 1,800 元——

品 項	成本 (元/份)	售價 (元/份)	數量 (元/份)
抹茶蛋糕	15	35	30
紅豆麵包	10	35	30
花香餅乾	?	35	30

下列相關敘述，何者正確？ (A)花香餅乾的利潤最高 (B)花香餅乾的成本為 20 元 (C)好口味點心坊單日銷貨收入為 1,350 元 (D)提高紅豆麵包的成本可增加利潤。

《答案》B

詳解：抹茶蛋糕利潤 600 元，紅豆麵包利潤 750 元，花香餅乾利潤為 $1,800 - 600 - 750 = 450$ ，假設花香餅乾成本為 y ，則 $(35 - y) \times 30 = 450$ ， $y = 20$ 。(A)紅豆麵包利潤最高。(C)單日銷貨收入為 $(35 + 35 + 35) \times 30 = 3,150$ 元。(D)增加成本會使利潤降低。

16. ()王美剛從大學畢業，透過「徵才博覽會」經國內某公司面試後，錄取為助理工程師。為保障勞動雙方的權利義務，訂立了勞動契約，內容包含了薪資、休假、福利等項目。上文所述屬於何種勞動參與型態？ (A)無酬勞動 (B)義務勞動 (C)家務勞動 (D)市場勞動。

《答案》D

17. ()小義在一家麵包店工作，因為已經累積相當的經驗和人脈，決定辭去工作，利用原本租給他人的店面，自己開業當麵包店老闆。下表所示為小義經營麵包店的資料——

項 目	金額(元/月)
員工薪資	10 萬
麵包成本	20 萬
水電瓦斯	1 萬
原薪資收入	2 萬
店面出租收入	5 萬

小義在計算總生產成本時，除了考量生產過程中實際支出的費用，還必須將機會成本納入。根據附表中資料，麵包店每個月的銷貨收入至少要達到多少金額，經營這家麵包店才划算？ (A)20 萬元 (B)31 萬元 (C)36 萬元 (D)38 萬元。

《答案》D

詳解：生產成本的計算，除了實際的支出 31 萬元，還必須加入機會成本(7 萬元)，共為 38 萬元。

18. ()幸福遊樂園為了配合防疫措施，實施人流管制，遊樂設施採預約制。大雄和家人共 9 人同遊，若他們想一起預約使用相同的遊樂設施，下列何者會出現資源「稀少性」的問題？ (A)空中纜車 (B)旋轉木馬 (C)咖啡杯 (D)海盜船。

遊樂設施	10:00~12:00 時段 剩餘可預約的座位
空中纜車	9
旋轉木馬	8
咖啡杯	10
海盜船	11

《答案》B

詳解：旋轉木馬僅剩 8 個座位，不足 9 人同時預約使用。

19. ()下圖是惠瑜整理出今年與去年相比，四個國家的貨幣對美元的升貶幅度圖表——

國 家	升貶幅度
甲國	40%
乙國	25%
丙國	-35%
丁國	-29%

根據此份資料，下列分析何者正確？ (A)今年有利於甲國出口至美國 (B)今年有利於乙國國民至美國旅遊 (C)進口美國商品的丙國業者能省下不少成本 (D)今年用丁國的貨幣去購買美元最划算。

《答案》B

20. ()雅加達自十七世紀以來一直是印尼的政治、經濟中心，不過由於人口過於集中加上大量開發，對環境已產生過多負荷。近年來，雅加達的民眾飽受交通壅塞、空氣汙染、地層下陷及水患之苦，因此印尼政府計畫將首都遷至婆羅洲。但有生態專家提出警告，該處是紅毛猩猩的棲息地，遷都計畫所需的開發過程必須謹慎評估，否則反而可能破壞環境，造成生態浩劫。上述討論內容與下列何項議題最相符？ (A)歷史古都的文化保存 (B)遷移首都的機會成本 (C)都市人口結構的變化 (D)群島國家國土的擴張。【112 教育會考】

《答案》B

詳解：印尼政府遷都婆羅洲，可能付出的代價為破壞當地生態，此種選擇付出的代價屬於機會成本概念，故正確答案為(B)。(A)題目未提及遷都後將進行文化保存。(C)題目提及遷都，但並未提及都市人口結構發生變化。(D)印尼計畫遷都至婆羅洲，仍是在原領土範圍內，並未涉及國土擴張。

21. ()大同身上有 200 元，他想去喝下午茶，附表列出各家店的消費價格，以及大同對各家店的喜好順序——

店名	價格	喜愛順序
古典花園	200	2
好喝咖啡	200	3
經典滋味	200	4
客來飯店	700	1

在考量金錢與喜好程度後，大同應會選擇哪家店？ (A)古典花園 (B)好喝咖啡 (C)經典滋味 (D)客來飯店。

《答案》A

22. ()一個國家與另一個國家之間貨幣兌換的比率，稱為匯率。假定美元兌換新臺幣的匯率上升，造成新臺幣貶值時，則下列相關的敘述何者錯誤？ (A)不利於進口美國商品 (B)不利於出口臺灣商品 (C)到美國旅遊團費變貴 (D)臺灣出口商品變便宜。

《答案》B

詳解：新臺幣貶值時，代表臺灣出口商品變便宜，故有利於出口臺灣商品；但不利於進口美國商品，到美國旅遊團費會變貴。

23. ()某機關希望縮短使用者的停車時間，提高停車場車位的流動率，使車位能讓更多洽公民眾使用，因此設計新的停車費率，如表(六)所示。該機關設定表中停車費率所運用的經濟學概念，與下列何者最相似？ (A)慶祝擴大營業，全店半價促銷 (B)物價持續上漲，貨幣價值降低 (C)提高銷貨收入，增加公司利潤 (D)香蕉價格下跌，種植農民變少。【110 教育會考】

表(六)

停車時間	收費金額
20 分鐘內離場	0 元
第一個小時	40 元
第二個小時起	每小時 100 元

《答案》A

詳解：題目以停車時間愈長收取愈多的費用，促使民眾縮短停車時間，提高停車場車位的流動率，是運用「價格高少買，價格低多買」的需求法則。即在其他條件不變的情況下，若商品價格下降，消費者需求量會增加；若其價格上漲(停車時間愈長，收費愈高)，消費者需求量會減少(縮短停車的時間)。(A)透過降低商品價格，刺激消費者購買意願，符合「需求法則」的內涵。(B)物價上漲，相同金額的貨幣所能購買的商品數量減少，與「需求法則」無關。(C)生產者提高銷貨收入，其方法可能是提高商品價格，或增加銷售量，與題意「透過提高價格，縮短使用者的停車時間」不符。(D)為「供給法則」的概念，即在其他條件不變的情況下，當商品價格上漲，生產者會增加供給數量；反之，當商品價格下跌，生產者會減少供給數量。

24. ()咖啡店推出外帶買一送一的優惠，一杯咖啡的價格變成原價的一半，讓阿雅很心動。但是轉念一想，自己一個人喝不完兩杯咖啡，若是最後丟掉豈不是浪費食物，因此決定還是只買一杯。上述阿雅的考量，呈現下列何種概念？ (A)機會成本 (B)法律規範 (C)公平正義 (D)貧富差距。

《答案》A

25. ()機會成本是指在其他條件都不變的情況下，所放棄的機會中代價最高者。附表是小康以相同時間分別生產四種玩偶的產量——

工作	產量(個/小時)
甲	8
乙	5
丙	10
丁	6

根據資料判斷，小康生產哪種玩偶的機會成本最低？ (A)甲 (B)乙 (C)丙 (D)丁。

《答案》C

26. ()隨著國人對生活品質的要求提升，近年來養生保健食品相當流行，然而也充滿了陷阱，許多商品會刻意誇大效果。例如：某知名藝人代言的「XXX 口含錠」，廣告暗指吃了可以改善視力，涉及廣告不實。下列哪一部法律是專為處理廠商的不當經營手法而制定？ (A)《消費者保護法》 (B)《公平交易法》 (C)《刑法》 (D)《民法》。

《答案》B

27. ()當市場中有多家廠商提供相同或類似的產品，廠商間的競爭會較為激烈，下列何者為其帶來的正面影響？ (A)價格只能由廠商單方面決定 (B)消費者可選擇的商品種類增加 (C)廠商使用劣質原料來降低成本 (D)廠商採取不正當手段加以競爭。

《答案》B

28. ()沒有使用過信用卡的可清，表達自己對信用卡的理解，其中何者並不正確？ (A)不具完整的貨幣功能 (B)本身具有一定價值 (C)具延遲付款的功能 (D)使交易過程更便利。

《答案》B

29. ()交通部觀光局邀請日本知名藝人為臺灣拍攝觀光宣傳影片，以吸引日本人來臺旅遊，但在宣傳活動的某段期間，因匯率劇烈波動，反而導致當時日本人來臺旅遊人次呈現負成長。上述觀光局作法所希望影響的消費行為因素，與該段期間匯率變化的情況，最可能為下列何項組合？ (A)預期心理、新臺幣相對日幣升值 (B)預期心理、新臺幣相對日幣貶值 (C)個人偏好、新臺幣相對日幣升值 (D)個人偏好、新臺幣相對日幣貶值。【106 教育會考】

《答案》C

詳解：拍攝宣傳影片是希望增加日本人對臺灣的認識，進而喜愛來臺灣觀光旅遊，此為因個人偏好而吸引其來臺灣旅遊，而非因預期心理的影響。而新臺幣升值，對來臺旅行的日本人來說，購買臺灣商品的價格相對變貴了；綜上所述，答案為(C)個人偏好、新臺幣相對日幣升值。

30. ()由於臺灣基本工資逐漸調漲，成衣製造商富貴公司將生產製造部門外移到東南亞國家，只有設計與行銷部門仍設立在臺灣。富貴公司的上述作法，較有可能是基於何種考量？ (A)在臺灣製造成衣的成本較低 (B)在臺灣製造成衣的品質較差 (C)採取機會成本較高的生產方式 (D)以機會成本較低的方式進行生產。

《答案》D

31. ()小安有甲、乙、丙三份工作機會，將其機會成本繪製如附表。若小安在繪製表格時僅以薪資為考量，根據表中內容判斷，甲、乙、丙三份工作的薪資，由高到低依序為下列何者？ (A)丙、乙、甲 (B)甲、丙、乙 (C)丙、甲、乙 (D)甲、乙、丙。【105 教育會考】

工作	機會成本
甲	丙的薪資
乙	甲的薪資
丙	甲的薪資

《答案》B

詳解：在其他條件不變的情形下，將資源用於某一用途的機會成本，就是放棄的其他用途中「價值最高」者。本題依據題幹假設前提條件：「僅以薪資為考量」及表中資料，而選擇乙和丙的機會成本都是甲的薪資，顯示「甲的薪資最高」，而選擇甲的機會成本則為丙的薪資，顯示「丙的薪資會高於乙」，所以三份工作的薪資，由高到低分別為選項(B)甲、丙、乙。

32. ()某銀行推出新的 APP 功能，只要事先設定附圖選項，當天匯率若符合設定條件，就會直接發送通知，讓民眾可以即時換匯，省時又簡便。下列何者的設定內容對自身較為有利？ (A)出國旅遊者將賣外幣設定在 32 元 (B)投資外幣者將買外幣設定在 30 元 (C)我國進口商將買外幣設定在 27 元 (D)我國出口商將賣外幣設定在 26 元。


設定到價通知	
通知類型	
<input type="radio"/> 我要買外幣 <input type="radio"/> 我要賣外幣	
幣別	<div>美元 ▼</div>
通知匯率(當前牌告匯率 28.65)	
<div></div>	
<div>確認送出</div>	

《答案》C

詳解：(A)出國旅遊者應買外幣。(B)投資外幣者應在新臺幣升值時購賣外幣。(C)新臺幣升值時，適合進口業者買外幣。(D)新臺幣貶值時，適合出口業者賣外幣。

33. ()分工是指各自負責自己擅長的工作，如果馬可從事拖地和擦窗戶工作的效率和品質都比朵拉好，則下列四位同學對兩人如何分工才最有利的說法，何者正確？


(A)




(B)



(C)



(D)



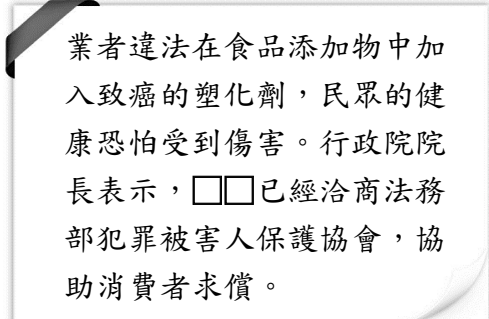
《答案》C

34. () 靜香與男友大雄正在討論情人節聚餐的餐廳，甲、乙餐廳均推出情人節特餐，在價格方面，甲餐廳較乙餐廳優惠；在服務品質上，乙餐廳則較優。若靜香僅想到服務品質較好的餐廳用餐，而大雄只想以優惠價格用餐，則對兩人而言，到哪一間餐廳用餐的機會成本較高？ (A)皆為甲餐廳 (B)皆為乙餐廳 (C)靜香：甲餐廳，大雄：乙餐廳 (D)靜香：乙餐廳，大雄：甲餐廳。

《答案》C

詳解：以服務品質考量，到乙餐廳的機會成本較低(服務品質較佳)，到甲餐廳的機會成本較高；以價格考量，到甲餐廳的機會成本較低(價格較優惠)，到乙餐廳的機會成本較高。

35. () 我國曾爆發多項食品被檢驗出含有塑化劑的食品安全事件，附圖是相關的新聞報導——



文中的□□，應是指下列哪個組織？ (A)消費者保護處 (B)勞動部 (C)國家發展委員會 (D)農業委員會。

《答案》A

36. () 下列有關於符合「勞動」定義的說明，何者最正確？ (A)只要有做事就是勞動 (B)勞動可增進社會的福祉 (C)運用體力的工作才是勞動 (D)勞動的代價必定會獲得報酬。

《答案》B

詳解：「勞動」是指個人運用自己的心力或體力，創造出能滿足自己或他人需求的事物，以增進個人、家庭或社會的福祉，故選(B)。(A)有做事不一定就是勞動。(C)勞動也可能是運用心力。(D)不一定會獲得報酬。

37. () 小安為完成公民報告，在查閱資料時，看到《勞動基準法》於民國 107 年修訂的部分條文，如附表所示。根據表中內容判斷，小安的報告主題最有可能為下列何者？ (A)民意機關修法的效率提升 (B)市場勞動參與的立法保障 (C)廠商型態分類的法律依據 (D)家務勞動參與的權益維護。

條文	修訂後條文(部分內容)
第 37 條	內政部所定應放假之紀念日、節日、勞動節及其他中央主管機關指定應放假日，均應休假。
第 59 條	勞工因遭遇職業災害而致死亡、失能、傷害或疾病時，雇主應依下列規定予以補償……。

《答案》B

詳解：小安所查閱到的《勞動基準法》修訂的部分條文內容，皆與勞工的市場勞動參與權益保障相關(休假、職業災害補償)，故選(B)。

38. ()梁媽媽開了一間自助餐店，就不能在同一時間從事其他工作。因此，她在計算經營成本時，也將自己的薪水一起納入生產成本之計算。上述主要在說明經濟學的哪種概念？ (A)社會規範 (B)機會成本 (C)公共利益 (D)公共參與。

《答案》B

39. ()小楷以信用卡刷卡方式購買一臺電視，除了有免利息分期，又能享受延後付款。下列對於「信用卡」的敘述何者正確？ (A)屬於貨幣 (B)具有價值儲存的功能 (C)可用來衡量商品價值 (D)具有延期償債特性。

《答案》D

40. ()我們常說：「錢非萬能，但沒有錢卻萬萬不能。」由此可見，消費行為受到什麼因素的影響？ (A)所得水準 (B)消費者偏好 (C)商品價格 (D)生活習慣。

《答案》A

41. ()日本某美妝品牌向來廣受歡迎，有兩名男子在網路上銷售仿冒該品牌的化妝品，透過壓低價格來吸引買家購入，經查獲後已經遭到逮捕。關於上述兩名男子的行為，下列相關敘述何者正確？ (A)以非價格競爭方式吸引買氣 (B)提供消費者物美價廉的產品 (C)違法並會損害消費者的權益 (D)是採取良性的公平競爭方式。

《答案》C

42. ()臺北市衛生局公布西元 2022 年違規廣告的查緝成果，針對食品、藥品／醫療器材及化妝品違規廣告，共開罰 528 件、裁罰 3,868 萬元，其中以食品類的金額最高，藥品／醫療器材居次，化妝品位居第三。下列相關敘述何者正確？ (A)文中的裁罰應為罰金 (B)臺北市衛生局隸屬於行政院 (C)違規廣告可能造成不公平競爭 (D)查緝目的在於保護廠商的權益。

《答案》C

43. ()菲菲看到某則新聞報導，如圖所示。根據報導內容判斷，下列描述何者最適切？ (A)文中的○○協會屬政府機關 (B)員工獲取薪資屬於有酬勞動 (C)回捐薪資是無償勞動的展現 (D)臺中市議會有權依法做處置。

○○協會長年要求社工人員每月回捐薪資，受害社工至少有 6 人，遍布在臺中、南投等地，最高回捐金額高達 2 萬多元，社工回捐薪資的帳戶竟是一名主管的個人帳戶，工會痛批該作法「突破底線」，臺中市社會局和南投縣社會及勞動處也已展開調查，強調將依法處理。

《答案》B

詳解：(A)協會不屬於政府機關。(C)與無償勞動不相關。(D)主要還是由行政機關依法處理，並非臺中市議會。

44. ()吳姓男子在網路購物平臺販賣運動外套，一名買家因價格便宜而下單，到貨後卻發現是仿冒品。吳男雖同意換貨，但重新寄出的產品品質更差。關於上述情況，下列何者正確？ (A)良性競爭帶來正面影響 (B)消費者缺乏比較的機會 (C)消費者的權益受到損害 (D)廠商無利可圖影響品質。

《答案》C

45. ()玲玲是職業婦女，婚後由先生照顧家庭與接送兩個就讀小學的兒子上下課。某日，玲玲下班累倒在沙發上，先生看了非常生氣，覺得玲玲對家庭沒有付出，沒有體諒他獨自操持家務的辛勞，於是兩人大吵了一架。根據上文所述，下列何者描述是正確的？ (A)他們的家庭型態為折衷家庭 (B)玲玲從事的工作為市場勞動 (C)先生從事的勞動屬於有酬勞動 (D)夫妻爭執是因教養觀念不同所致。

《答案》B

詳解：(A)應為小家庭(核心家庭)型態。(C)無酬勞動。(D)因家務分工不均而產生爭執。

46. ()阿香在夜市販賣炸雞腿和炸薯條，附表所示是兩種食物的基本資料——

品 項	炸雞腿	炸薯條
成本(元/份)	30	20
售價(元/份)	40	?
數量(份/日)	150	100

如果阿香希望每天的利潤至少達到 2,500 元，則炸薯條的售價應該訂為多少元？ (A)25 元 (B)28 元 (C)30 元 (D)35 元。

《答案》C

詳解：炸雞腿的利潤為 $(40-30) \times 150 = 1,500$ 元。則炸薯條的利潤須為 1,000 元，假設炸薯條售價為 A 元，則 $(A-20) \times 100 = 1,000$ 元，所以 $A = 30$ 。

47. ()下列有關「資源稀少」的敘述，何者正確？ (A)富裕的人，不會有資源稀少的問題 (B)乾淨的水及空氣是無限的 (C)資源稀少是相對於人類欲望無窮而言，並不是指總數量的多寡 (D)因為資源稀少，所以選擇時不須付出代價。

《答案》C

48. ()某紡織工廠內其中一組工作人員生產外套和帽子的產能如附表——

人員	外套	帽子
強哥	5	5
小容	6	3
麗華	2	4
仁德	7	5

單位：件／天

請由表中資料推論，何者最可能被工廠組長指定專業化生產外套？ (A)強哥 (B)小容 (C)麗華 (D)仁德。

《答案》B

49. ()小顏打算趁著暑假去打工，在面試過後得到三個薪資不同的工作機會，他將薪資情況整理成附表。根據表中資料判斷，若小顏僅依薪資多寡做選擇，最後決定去春來亭涼麵打工，則表中甲、乙、丙三處最可能為下列何者？ (A)甲：110、乙：120、丙：110 (B)甲：110、乙：110、丙：110 (C)甲：100、乙：120、丙：120 (D)甲：100、乙：110、丙：120。【103 教育會考】

店家	時薪	機會成本
老王排骨飯	甲	
龍記烏骨雞		乙
春來亭涼麵	120	丙

單位：元／小時

《答案》A

詳解：在其他條件都相同的情況下，一個人選擇將資源用於某一特定用途時，所放棄的其他選擇機會中，滿足程度最大(價值最高者)，就是該用途的機會成本。題幹提及小顏最後決定去「春來亭涼麵」打工，表示該選擇的成本最低(亦即時薪最高)，所以「甲」的時薪應低於 120；他選擇「龍記烏骨雞」打工的機會成本，就是他放棄「老王排骨飯」與「春來亭涼麵」二者價值最高者，因此「乙」應為 120，而「丙」則應低於 120，所以選(A)。

50. ()有關勞動參與的意義與重要性，下列敘述何者正確？ (A)市場勞動無法獲得實質報酬但會具有經濟價值 (B)

市場勞動的重要性遠高於家務勞動 (C)無酬家務勞動沒有經濟產值對社會並無貢獻 (D)無酬家務勞動可以維持市場勞動的穩定運作。

《答案》D