

一、選擇-:(每題 0 分。共 0.0 分):

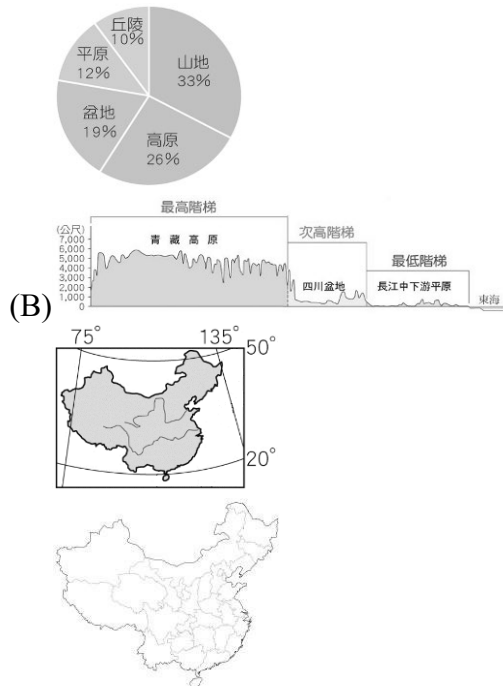
1. ( )下列何者不是中國目前已設立的自治區？ (A)新疆維吾爾自治區 (B)貴州苗族自治區 (C)寧夏回族自治區 (D)西藏自治區。

《答案》B

2. ( )中國的各種地形當中，以下列哪兩種地形所占的面積最大？ (A)丘陵、平原 (B)平原、山地 (C)山地、盆地 (D)高原、山地。

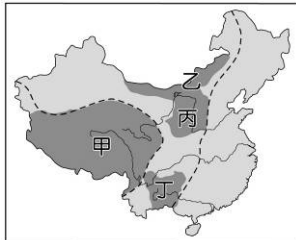
《答案》D

3. ( )下列哪一個選項中的圖最能說明中國地勢西高東低的情況？



《答案》B

4. ( )「此高原受板塊擠壓及造山運動影響，地勢陡峻，是世界最高的高原；且因受冰河侵蝕，高原面上湖泊遍布。」上述指的是附圖中哪一個高原？ (A)甲 (B)乙 (C)丙 (D)丁。



《答案》A

5. ( )「中國南北氣候截然不同，氣溫南北差異在冬季尤為明顯。」這段敘述與下列哪一項氣候因素最有關係？ (A)緯度 (B)地形 (C)季風 (D)距海遠近。

《答案》A

6. ( )中國的疆域面積廣大，各地區的氣候亦不相同。請問：其主要分類條件中，不包括下列何者？ (A)降水多寡 (B)氣溫高低 (C)海拔高度 (D)面積大小。

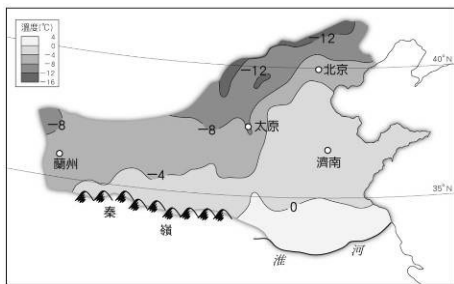
《答案》D

7. ( )小巴打算到中國的黃河中下游地區旅行，蒐集資料時發現，當地河川「冬季有結冰期」，此特徵與當地的哪一項自然因素最相關？ (A)冬季氣溫低於 0°C (B)年降水量大致在 250~750 mm (C)平原面積廣大 (D)土壤肥沃度高。

《答案》A

詳解：河川冬季會結冰主要是因氣溫低於 0°C。

8. ( )附圖為中國北部某地區 1 月等溫線分布圖，根據圖中資訊判斷，四個都市中，以何地的冬溫最低？ (A)蘭州 (B)太原 (C)北京 (D)濟南。

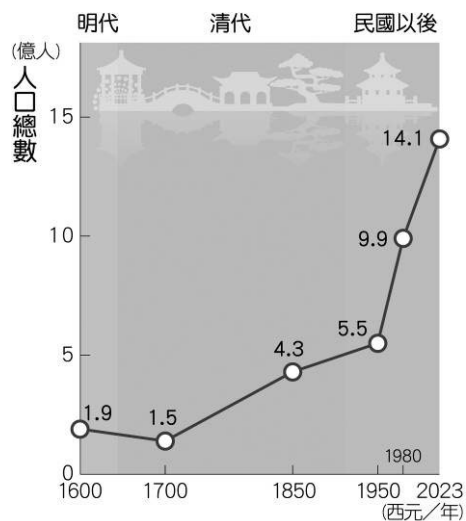


《答案》B

9. ( ) 中國有一條「看不見的線」曾引起熱烈探討，因這條線將中國分成兩個世界。這條線北起「甲地」，一路向著西南延伸直至「乙地」。該線是西元 1935 年時，一位地理學者發表《中國人口之分布》中所標註的線。請問：上文提及的「甲地」、「乙地」最可能分別為下列何者？ (A)甲：漠河、乙：騰衝 (B)甲：黑河、乙：騰衝 (C)甲：漠河、乙：昆明 (D)甲：黑河、乙：昆明。

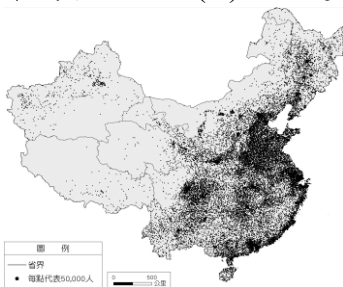
《答案》B

10. ( ) 附圖為近代中國人口成長變化圖。影響中國一九五〇年代後人口成長變化的因素有哪些？ (甲)環境較衛生 (乙)戰爭較頻繁 (丙)天災持續發生 (丁)醫療條件逐漸改善 (A)甲乙 (B)乙丙 (C)丙丁 (D)甲丁。



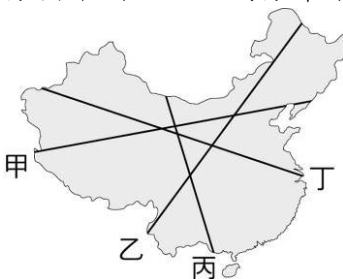
《答案》D

11. ( ) 附圖為中國人口分布圖，可看出東半部的人口密度較高，其中沿海地區人口較為密集的現象，與下列何者關係最為密切？ (A)丘陵遍布 (B)氣候乾燥 (C)經濟發達 (D)土壤肥沃。



《答案》C

12. ( ) 中國的人口分布大致與各地的地形、氣候等自然環境，以及經濟發展程度有關。附圖中哪一條線，最能清楚劃分出中國人口空間分布不均、密度大小懸殊的特性？ (A)甲 (B)乙 (C)丙 (D)丁。



《答案》B

13. ( ) 「環境負載力」是指一地能提供多少資源和承受污染物的能力。中國人口眾多，面積廣大，但因各地環境負載力有別，導致人口呈現何種現象？ (甲)分布不均 (乙)密度懸殊 (丙)性別失衡 (丁)快速老化 (A)甲乙 (B)甲丙 (C)乙丙 (D)丙丁。

《答案》A

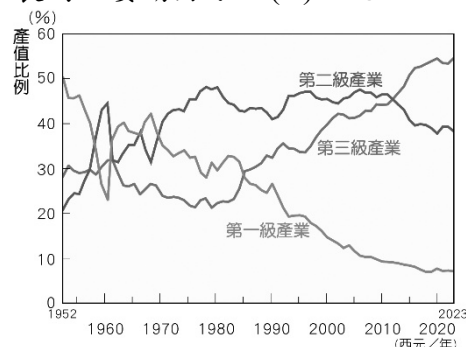
14. ( ) 青藏高原牧場上，有著被譽為「高原之舟」的黑色○○點綴，這幅景象正是藏民的生活舞臺，也孕育了藏人的文化特色。請問：○○最可能是哪一種牲畜？ (A)馬 (B)羊 (C)犛牛 (D)駱駝。

《答案》C

15. ( ) 中國沿海經濟特區中，離香港特別行政區最近的為下列何者？ (A)廈門 (B)汕頭 (C)深圳 (D)珠海。

《答案》C

16. ( ) 附圖顯示中國三級產業的產值比例變化，由圖中資料可看出，中國的工業發展在哪一年之後，已經成為經濟成長的主要動力？ (A)西元 1960 年 (B)西元 1970 年 (C)西元 1990 年 (D)西元 年。



《答案》B

17. ( ) 小雯的爸爸前往中國經商多年，在當地有好幾家工廠，工作繁忙。他平時與家人的聯繫除了視訊聊天之外，也會不時從廈門當地寄明信片給小雯。從小雯爸爸寄明信片的來源地判斷，他的工廠應位在下列哪一行政區範圍內？ (A)廣東省 (B)福建省 (C)海南省 (D)江蘇省。

《答案》B

18. ( ) 中國自一九八〇年代改革開放以來，其經濟發展的空間範圍有何變化？ (A)由內陸擴展至沿海 (B)由沿海擴散至內陸 (C)由北部向南部擴展 (D)由西部向東部擴散。

《答案》B

19. ( ) 中國於一九八〇年代實施改革開放政策，以哪五座城市為中國最早開放的經濟特區所在地？(甲)廈門 (乙)上海 (丙)深圳 (丁)汕頭 (戊)珠海 (己)海南 (A)甲乙丙丁戊 (B)甲丙丁戊己 (C)甲乙丁戊己 (D)乙丙丁戊己。

《答案》B

詳解：中國最早的經濟特區位於(甲)廈門、(丙)深圳、(丁)汕頭、(戊)珠海、(己)海南等五座城市。

20. ( ) 中國西部地區，可利用本身優越的自然條件，發展何項產業來提升經濟發展？ (A)輕工業 (B)工礦業 (C)運輸業 (D)農業。

《答案》B

詳解：西部地區有豐富的林、牧及礦產資源。

21. ( ) 此直轄市是中國歷史古城，也是明清兩代的皇城所在地，有著名的紫禁城、天壇等歷史遺跡，至今也是中國政治及文化的中心。請問：上述的城市應該在附圖中何處？ (A)甲 (B)乙 (C)丙 (D)丁。



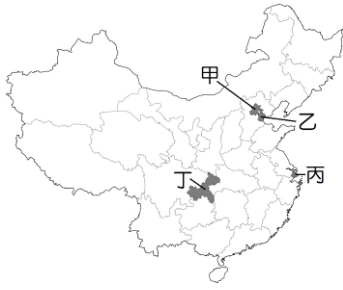
《答案》A

詳解：中國政治中心為北京市，位於甲。

22. ( ) 「這個經濟特區已經從一個珠江口東側的鄉村，成長到經濟生產總值超過新加坡，與鄰近的香港相當的國際化現代大都市，華為、騰訊、比亞迪等高科技產業都在此奠基，成為中國的新創之都。」請問：文中所敘述的城市最有可能為下列何者？ (A)北京 (B)上海 (C)廣州 (D)深圳。

《答案》D

23. ( ) 中國境內設有四個直轄市，分別具有政治或經濟上的重要性，附圖甲～丁為其位置，何者為中國最主要的金融中心所在？ (A)甲 (B)乙 (C)丙 (D)丁。



《答案》C

24. ( ) 全球製鞋龍頭寶成集團，過去在中國的工廠大部分是將生產的產品外銷，但隨著生產因素轉變，必須將工廠移往印尼、越南等東南亞地區以利外銷，中國境內的工廠則以內銷為主。影響寶成集團進行工廠區域轉移的主要因素為下列何者？ (A)科學技術提升 (B)原料取得便利 (C)勞動成本上漲 (D)動力能源充足。

《答案》C

25. ( ) 全球有一半以上的電腦、顯示器、行動電話等產品皆在中國組裝，因此中國有「世界工廠」之稱。以下哪些是中國吸引外資前往設廠製造的有利條件？ (甲)原料充足 (乙)工資低廉 (丙)技術進步 (丁)市場廣大 (A)甲乙 (B)甲丙 (C)乙丁 (D)丙丁。

《答案》C

26. ( ) 近年來，中國已從「世界工廠」逐漸成為「世界市場」，下列何者是中國成為世界市場的主因？ (A)消費能力提升 (B)全球出口額排名第一 (C)和各國簽訂自由貿易協定 (D)人口眾多。

《答案》A

詳解：除了有眾多人口之外，也必須要有一定的消費能力，才能夠形成世界市場，因此選擇(A)。(B)出口額第一與世界市場無關；(C)許多國家都有簽訂自由貿易協定，非中國特有現象，且簽訂自由貿易協定的其他國家並未成為世界市場；(D)人口眾多亦要有消費能力，如印度的人口眾多，但人均所得偏低，無法成為世界市場。

27. ( ) 中國經過數十年的改革開放，從「世界工廠」蛻變為「世界市場」的稱號，這兩個稱號均與以下哪一項中國的地理條件關係最密切？ (A)能源供給穩定 (B)人口總數眾多 (C)交通四通八達 (D)土地面積廣大。

《答案》B

詳解：中國有充足的勞力與相對低廉的工資，吸引企業前往設廠；而隨著中國人民平均薪資的提高、消費能力增加，人口眾多的中國成為世界最大的消費市場之一。

28. ( ) 根據中國海關統計，中國於西元 2023 年的進出口貿易總額達 5.94 兆美元，繼續保持全球貨物貿易第一大國的地位。下列哪一項商品占中國「進口商品」金額的比例最大？ (A)煤鐵及銅礦砂 (B)玩具塑料製品 (C)服裝及衣服配件 (D)電子及電器產品。

《答案》A

詳解：中國為世界代工基地，資源不敷使用，還需由國外輸入許多工業原料。

29. ( ) 中國的空氣汙染嚴重，每當有重要國際活動在中國舉行，為了改善活動期間的空氣品質，政府會要求周遭兩、三百公里內的工廠停工，並管制車輛交通，以重現藍天晴空。下列哪一個城市附近有較多重工業工廠、可管制一百萬輛以上車輛，在政府空汙管制政策下，空氣汙染改善情況較為明顯？ (A)大連 (B)北京 (C)廈門 (D)香港。

《答案》B

30. ( ) 下列有關朝鮮半島氣候特色的描述，何者有誤？ (A)屬於溫帶季風氣候 (B)全年有雨，乾溼季不明顯 (C)夏、秋季節偶受颱風侵襲 (D)半島南部的氣溫較高，利於農業發展。

《答案》B

詳解：朝鮮半島夏季盛行東南季風，自太平洋帶來水氣，為主要降水季節；冬季盛行西北季風，來自亞洲大陸，較為乾燥，故為乾季。

31. ( ) 小睿寒假到南韓滑雪，當地導遊介紹滑雪場多在山區，沿坡地而建。請問：小睿此趟滑雪行程，若從首都出發，應是往半島的哪一個方向前進？ (A)東方 (B)北方 (C)西方 (D)南方。



《答案》 A

詳解：朝鮮半島脊梁山脈為太白山脈，偏向半島東側，滑雪場多設於此。

32. ( )東北亞冬季時大多寒冷，和來自亞洲大陸何種風向的季風有關？ (A)↗ (B)↖ (C)↘ (D)↙。

## 《答案》 C

33. ( )亞洲為世界面積最大的洲別，因內部地理環境的差異，習慣上分為北亞、東亞、南亞、西亞等七大分區。請問：東北亞主要包含哪些國家？ (A)中國、日本、南韓 (B)日本、北韓、南韓 (C)中國、臺灣、日本 (D)蒙古、北韓、俄羅斯。

《答案》 B

34. ( )東北亞包括南、北韓和日本等三國，下列關於其環境的敘述中，屬於三個國家的共同點有幾項？(甲)皆屬季風亞洲範圍 (乙)地形以盆地和平原為主 (丙)皆位於板塊交界帶 (丁)文化均受到中國影響 (A)一項 (B)二項 (C)三項 (D)四項。

《答案》 B

詳解：(乙)山地為主的地形。(丙)東北亞三國只有日本位於板塊交界帶。

35. ( )日本為世界重要工業大國，工業產品出口為該國重要經濟來源。請問：日本工業發展以哪些類型為主？ (A) 汽車、高科技工業 (B)電子零件組裝、高科技代工 (C)農產品加工、紡織 (D)石化、造船。

## 《答案》 A

36. ( )日本經濟雖高度發展，但也曾經因為多數企業赴海外投資，導致失業率提高、產業衰退等危機。請問：關於上述日本產業外移的原因，下列何者正確？ (A)國外工業技術較好 (B)國內員工薪資偏高 (C)出口資源獲得稅金 (D)進口產品賺取獎金。

《答案》 B

37. ( )七大工業國組織(Group of Seven, G7)是一個由世界七大已開發國家所組成的國際組織，日本是七個國家中唯一的亞洲國家，該國工業發展的優勢條件不包括下列何者？ (A)便捷的海運交通 (B)優良的研發能力 (C)豐富的礦產資源 (D)優異的勞工品質。

## 《答案》 C

38. ( )《寶可夢 GO》(Pokémon GO)是臺灣許多民眾喜愛的遊戲，網路上甚至有玩家幫忙整理相關的地點，以供玩遊戲的民眾可以作為參考。請問：此一遊戲是由哪一國家所發明設計？ (A)美國 (B)南韓 (C)日本 (D)英國。

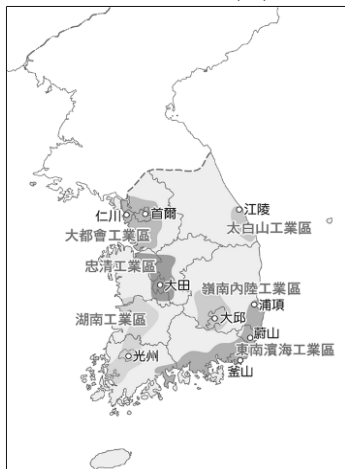
## 《答案》 C

詳解：《寶可夢 GO》是日本的動漫衍生出的產品。

39. ( )日本政府發布的《觀光白皮書》內呈現不同外國旅客主要的消費方向。澳洲人是所有旅客中花最多錢在住宿方面的，臺灣人則主要買藥品和保健相關產品，而歐美旅客訪日的最大動機則是「體驗日本的傳統文化和歷史」。請問：下列何者較不符合歐美旅客感興趣的旅遊內容？ (A)偶像團體 (B)和服體驗 (C)體驗茶道 (D)京都祇園祭。

## 《答案》 A

40. ( )附圖為南韓工業區分布圖，由圖可看出半島的東部工業區分布明顯少於西、南部，其主要原因受限於東部哪一項地理因素？ (A)海運不便 (B)地勢崎嶇 (C)氣候嚴寒 (D)缺乏礦產。



《答案》B

詳解：朝鮮半島東部為太白山脈，地勢崎嶇，交通不便，較不利工業發展。

41. ( ) 主要生長於山地的人參，被認為含有豐富皂素，可以抵抗昆蟲、細菌的感染，以及空氣、土壤中的汙染。在新冠肺炎(COVID-19)流行期間，被當成增加免疫力的聖品，而導致消費量增加。根據「南韓農林畜產食品部」的數據顯示，西元 2020 年第一季生鮮食品出口中，南韓人參銷往美國的量，比去年同期增加 5.9%。請問：上述所提到的人參主要生產於南韓何地？ (A)南部沖積平原 (B)北部蓋馬高原 (C)西部沿海平原 (D)東部太白山脈。

《答案》D

42. ( ) 南韓於二十世紀末，提出下列哪一項政策，成立專責機構，並設立產業園區，近年收到成效，使得南韓的世界影響力大增？ (A)文化立國 (B)醫療立國 (C)3C 立國 (D)鋼鐵立國。

《答案》A

詳解：南韓在二十世紀末，提出文化立國政策，使南韓成為全球文化產業出口大國。

43. ( ) 下列哪一個地理區位於中國與日本之間，東、西、南三面環海？ (A)澎湖群島 (B)琉球群島 (C)朝鮮半島 (D)山東半島。

《答案》C

44. ( ) 一八六〇年代，紐西蘭發現金礦，吸引許多來自中國東南沿海地區的人民前來尋寶。他們為了存錢回鄉，忍受糟糕的生活環境與疾病、生活適應等困難。據統計，當時約有超過一半的人無法回國，客死異鄉；而紐西蘭南島皇后鎮附近的箭鎮(Arrowtown)，至今仍保存了當時中國飄洋過海的礦工所遺留的簡陋居所。請問：導致中國東南沿海居民早期遠渡重洋移居他處開墾的主要原因為何？ (A)原鄉降水太少，旱災頻傳 (B)原鄉耕地難尋，糧產不足 (C)原鄉位置偏僻，少商業活動 (D)原鄉地勢高聳，不宜人居。

《答案》B

45. ( ) 日本全國各地溫泉資源豐富，泉源數量多達 27,000 處，加上泉質種類多，是世界著名的溫泉大國。臺灣旅客愛去日本，因此在秋冬赴日旅遊，大都會規畫入住溫泉飯店泡名湯的行程。但旅遊業者提醒，在日本泡湯前要先洗淨身體，需全裸入湯，身上有刺青的遊客，可能還會被拒絕進入公共浴池。請問：日本的溫泉資源豐富與下列哪一自然環境有關？ (A)國土狹長 (B)地質古老 (C)黑潮流經 (D)板塊交界。

《答案》D

46. ( ) 南韓在二十世紀末確定了「文化立國」政策，經過三十多年努力，如今已成為全球文化產業出口大國之一。下列何者不屬於「韓流」現象的展現？ (A)韓團 BTS 與速食業聯名推出套餐 (B)韓式料理店在歐美吸引大批人潮 (C)多啦 A 夢擔任申請奧運大使 (D)韓劇拍攝場景成為熱門觀光景點。

《答案》C

47. ( ) 某報導指出：「現今中國適婚男女的性別比懸殊，且隨著社會文化的變遷，愈來愈多女性不願意結婚，因此出現部分男性為了結婚，須繳交費用給婚友社的情形。其中，婚友社內的女性不僅對男性的要求逐漸增加，雙方媒合時間也愈來愈久。」請問：上述現象和中國哪一個政策的實施較有關？ (A)開放生二胎 (B)一胎化政策 (C)經濟改革開放 (D)老年福利政策。

《答案》B

詳解：中國受到一胎化政策影響，性別結構失衡，使部分男性較難找到婚配對象。

48. ( ) 附圖是某書中介紹亞洲某國家的傳統建築形式的示意圖，依據亞洲地區的自然環境及圖中資訊判斷，圖中的建築形式最可能出現在下列哪一地區？ (A)朝鮮半島 (B)中南半島 (C)印度半島 (D)阿拉伯半島。



《答案》A

詳解：圖中為溫突，主要出現在中高緯度地區，因此應為朝鮮半島。

49. ( ) 近年隨著韓劇的流行，南韓的文化、料理、流行時尚等風靡全亞洲。韓劇裡展現的衣食住行、言行舉止，皆能呈現出南韓的民族特色。請問：在古裝韓劇中，韓服和傳統禮制處處可見中國文化的影子，其原因為何？ (A) 自然環境影響 (B) 同源民族遷移 (C) 中國政治壓迫 (D) 地理位置鄰近。

《答案》D

詳解：南韓因鄰近中國，傳統服飾、建築、禮制等皆受到中國的影響。

50. ( ) 「這個採行專制獨裁政體的亞洲國家具備成熟的軍工體系，亦積極開發各式大規模殺傷性武器。該國於西元 2006 年成功開發核子武器並進行第一次試爆，截至西元 2024 年，該國庫存核武總數約有 40 件，且每年可生產 6 ~ 7 件核武的易裂變材料。」文中提及的國家應為下列何者？ (A) 日本 (B) 南韓 (C) 北韓 (D) 泰國。

《答案》C

詳解：選項中採行專制獨裁政體且積極發展核武的國家僅有北韓。