


[滿分 100 分]

一、單題（每題 2 分，共 100 分）

1. ( ) 附圖為安安在半夜收到的「國家級地震警報」簡訊內容，由內容中的地震位置來看，下列哪一地形區的居民所受到地震的威脅最大？

 <b>警訊通知</b> 2017年2月11日，01：17	
〔地震報告〕02/11 01:12高雄市近海發生規模5.6有感地震，詳細資訊請參考氣象局網站，氣象局。	
※ 靜音	關閉

(A)花東縱谷平原 (B)臺北盆地 (C)苗栗丘陵 (D)嘉南平原。

答案：(D)

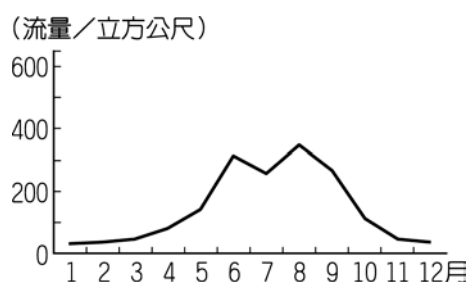
**解析**：地震發生於高雄市近海，鄰近嘉南平原地區。

2. ( ) 根據聯合國海洋法公約規定，各國擁有在其經濟海域內資源的使用權。臺灣因四面環海，島嶼眾多，擁有廣大的經濟海域，但因與鄰近國家的經濟海域重疊，經常有漁業上的糾紛。上文所述的鄰近國家不包含下列何者？【104 年會考】

(A)中國 (B)日本 (C)南韓 (D)菲律賓。

答案：(C)

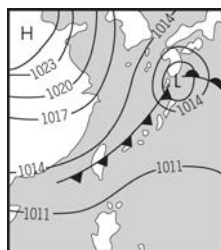
3. ( ) 附圖為臺灣某河川的流量變化圖，請根據圖中資料加以判斷，該條河川最可能為下列何者？



(A)淡水河 (B)蘭陽溪 (C)濁水溪 (D)秀姑巒溪。

答案：(C)

4. ( ) 附圖為季風亞洲地區的地面天氣圖，由圖中無法得知下列哪一項氣象資料？



(A)高低氣壓 (B)鋒面特性 (C)平均溫度 (D)盛行風向。

答案：(C)

**解析**：圖中僅直接呈現出氣壓高低及鋒面特性，因此無法得出長時間的平均溫度。

5. ( ) 婉清的旅遊日記寫著：「到了這裡下車後，映入眼中的是陡峭的山嶺與峭壁。我覺得呼吸困難和寒冷，使身體感到不舒適。」此時婉清所到的地點可能是下列哪種地形區？

(A)山地 (B)丘陵 (C)平原 (D)盆地。

答案：(A)

6. ( ) 附圖為臺灣東北部某一離島。島上有四條主要的河川，就臺灣降水的特徵判斷，圖中哪一河川在冬季的流量可能最充沛？



(A)甲 (B)乙 (C)丙 (D)丁。

答案：(A)

**解析**：冬季時臺灣多吹東北季風，圖中的甲位於迎風坡多雨。

7. ( ) 附圖為臺灣的絕對位置圖，由附圖中可以得知下列何項資訊？



(A)臺灣位於西半球 (B)臺灣屬於溫帶氣候區 (C)有回歸線通過臺灣 (D)臺灣位於南半球。

答案：(C)

解析：(A)東半球(B)熱帶、副熱帶氣候區(D)北半球。

8. ( ) 附圖為臺灣某海岸極負盛名的觀光景點——女王頭（蕁狀岩）。若國外遊客搭乘郵輪來臺觀光時，則停泊在下列哪一個港口較為方便前往當地遊覽？



(A)基隆港 (B)臺中港 (C)高雄港 (D)花蓮港。

答案：(A)

解析：女王頭位於北部海岸，靠近基隆港。

9. ( ) 臺灣周圍的離島中，因柱狀玄武岩發達而被規畫為自然保留區的是下列何者？

(A)澎湖群島 (B)金門列嶼 (C)馬祖列嶼 (D)釣魚臺列嶼。


答案：(A)

10. ( ) 地球中的水分子會不斷地循環，生生不息。請問：地面上的水分子如何回到天空中？

(A)降水 (B)凝結 (C)蒸發 (D)逕流。

答案：(C)

11. ( ) 我國所進行的漢光軍事操演，主要以假設外敵入侵時國軍的應變能力為重點。某次漢光演習的地點如附圖所示，由圖中判斷該地點主要的操練課題應為下列何者？



(A)珊瑚礁海岸潛水滲透 (B)沙灘搶反登陸的演練 (C)萬船齊發搶進岬灣港口 (D)懸崖峭壁垂直攀爬侵入。

答案：(B)

解析：圖中是西部海岸，多沙灘、沙洲地形。

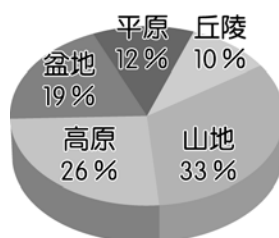
12. ( ) 臺灣的午後雷陣雨總是來得又急又快，常讓許多忘記帶傘的人只好躲在屋簷下避雨。上述的情況最容易出現在哪一個季節？

(A)春 (B)夏 (C)秋 (D)冬。

答案：(B)

解析：臺灣夏季高溫，蒸發強烈，使大氣對流旺盛，累積足夠的水氣，往往在午後造成降水。

13. ( ) 一般將全世界的地形大致分成五大基本類型，附圖為中國的五大地形面積比例，其中哪一項地形是臺灣所缺乏的？



(A)高原 (B)平原 (C)山地 (D)盆地。

答案：(A)

解析：(A)臺灣沒有高原地形。

14. ( ) 附表是 2018 年全球護照指數排名，依據各國護照的免簽國家數量進行排名。表中第一名的國家與臺灣有何共同特色？

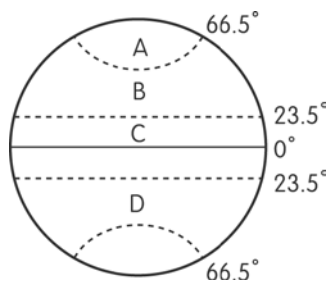
排名	國家
1	日本
2	德國、新加坡
3	法國、義大利、南韓、西班牙、瑞典、芬蘭
4	澳洲、盧森堡、荷蘭、挪威、葡萄牙、英國、美國
26	臺灣

(A)皆有北回歸線經過 (B)與中國陸地連接 (C)位於東亞島弧 (D)位於同一時區。

答案：(C)

解析：日本與臺灣皆位於東亞島弧。

15. ( ) 地球上的水循環，會隨著自然環境不同而有所改變。請問：附圖中哪一個地方水循環的降雨及蒸發作用最為旺盛？



(A)A (B)B (C)C (D)D。

答案：(C)

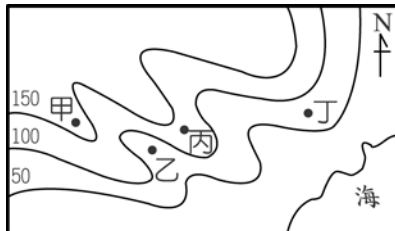
解析：低緯度地區太陽終年直射，使蒸發、對流作用旺盛。

16. ( ) 全球依經度位置可分為 24 個不同時區，每一時區的東西範圍共跨越多少經度？  
(A)  $6^\circ$  (B)  $10^\circ$  (C)  $12^\circ$  (D)  $15^\circ$ 。

答案：(D)

解析：全球  $360^\circ / 24$  小時，故每個時區跨  $15^\circ$ 。

17. ( ) 請根據等高線的分布來判斷，附圖中乙點的高度大約為多少？



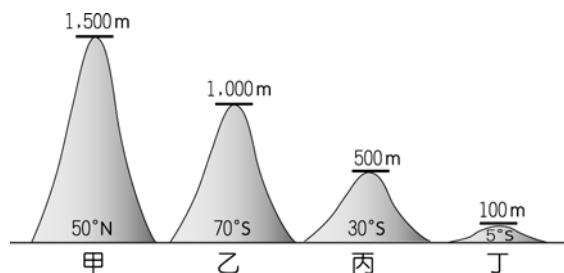
(A) 70 公尺 (B) 110 公尺 (C) 150 公尺 (D) 20 公尺。

答案：(A)

18. ( ) 臺灣和中國之間的澎湖群島，為早期兩岸往來的中繼站，其位置主要位於哪一海域當中？  
(A) 太平洋 (B) 東海 (C) 巴士海峽 (D) 臺灣海峽。

答案：(D)

19. ( ) 一地區的地理環境對於民眾日常生活的服裝穿著影響甚大，附圖中哪一地區因終年氣溫偏高，因此全年多穿著輕薄的短袖衣物？



(A) 甲 (B) 乙 (C) 丙 (D) 丁。

答案：(D)

解析：緯度位置愈低，終年氣溫愈高，其中丁地的緯度最低且海拔也低，最可能終年高溫。

20. ( ) 週一早晨升旗時，翔揚發現旗桿上的旗幟正往東北方飄動。由此可推知，當時應是吹何種方向的風？  
(A) 東北風 (B) 東南風 (C) 西北風 (D) 西南風。

答案：(D)

21. ( ) 附圖為臺灣本島東南方海域上的某離島觀光地圖，可以從臺東搭飛機或輪船前往當地。請問：這應是下列哪一離島？



(A) 金門 (B) 澎湖 (C) 綠島 (D) 龜山島。

答案：(C)

解析：位於臺灣東南方的海域，且由著名的朝日溫泉、監獄等景點判斷，應該為綠島。

22. ( ) 臺灣山地地形面積比例大，且地勢高峻陡峭，其主要原因為下列何者？  
(A) 河川堆積作用頻傳 (B) 冰山融化，海面上升 (C) 火山活動頻傳 (D) 板塊擠壓多褶曲山地。

答案：(D)

23. ( ) 老師在地理課介紹臺灣海岸，他將海岸的類型分為岩岸、沙岸和珊瑚礁海岸。上述海岸分類主要依據為何？  
(A) 海岸構成物質 (B) 海洋深度大小 (C) 海岸線的長短 (D) 海岸生物多寡。

答案：(A)

解析：岩岸為岩石構造，沙岸由泥沙或礫石構成，珊瑚礁海岸是死亡的珊瑚蟲骨骼或貝殼構成。

24. ( ) 海、湖、河中的水被太陽輻射熱力轉化成氣態水的現象，稱為何者？

(A)入滲 (B)蒸發 (C)逕流 (D)蒸散。

答案：(B)

25. ( ) 「強烈颱風尼伯特來襲，導致停泊在高雄港碼頭的新加坡籍貨輪纜繩被強風扯斷，在港區漂流。……南部各縣市的農業災損就高達數億元……。」上述新聞最可能發生在下列哪一時間？

(A)1月3日 (B)3月5日 (C)7月8日 (D)12月25日。

答案：(C)

解析：颱風來襲的時間為夏、秋兩季，故選(C)。

26. ( ) 臺灣北、中、南三大河川的水系分布如附圖所示，根據其主、支流的位置判斷，這些河川的集水區都包括了下列哪一座山脈？



(A)中央山脈 (B)玉山山脈 (C)雪山山脈 (D)阿里山山脈。

答案：(A)

解析：由圖中可判斷三條河川多發源自臺灣中央山脈，因此共同集水區位置為中央山脈。

27. ( ) 臺灣屬多雨區，但嘉南平原農業非常依賴灌溉，其主因為何？

(A)降水季節分布不均 (B)地力過於貧瘠 (C)降水強度太小 (D)耕地面積太廣。

答案：(A)

解析：嘉南平原的降水過度集中於夏季。

28. ( ) 「海水較淺，沿岸平原較寬廣。」以上是描述臺灣哪一地區海岸的特徵？

(A)西部海岸 (B)東部海岸 (C)南部海岸 (D)北部海岸。

答案：(A)

29. ( ) 近年來，豪雨經常造成水患頻傳，若要觀測降水量的多寡，其測量單位為下列何者？

(A)m (B)km (C)cm (D)mm。

答案：(D)

解析：(A)公尺(B)公里(C)公分(D)毫米。

30. ( ) 我國經濟部長和巴西的經貿首長準備進行經貿合作的視訊會議，為了籌備此次會議，我國承辦人員希望了解巴西的作息時間，以安排會議流程。請問：此時承辦人員需準備下列哪一項資料，以便因應時差的影響？

(A)巴西疆域面積 (B)巴西主要鄰國 (C)巴西緯度位置 (D)巴西經度位置。

答案：(D)

解析：全球各地受到經度位置不同的影響，形成不同的時區。

31. ( ) 孟珍的家鄉由島嶼組成，位於臺灣島西側海洋。由於位置因素，自古以來便是往來中國與臺灣的船隻中繼站。孟珍的家鄉不會是臺灣哪個離島？

(A)澎湖群島 (B)金門列嶼 (C)馬祖列嶼 (D)釣魚臺列嶼。

答案：(D)

解析：「西側海洋」指臺灣海峽，釣魚臺列嶼位於臺灣東北方的海面上。

32. ( ) 附圖為臺灣早期的政治及軍事中心分布圖。當時的區域發展主要分布於下列哪一個地區？



(A)新竹丘陵 (B)屏東平原 (C)嘉南平原 (D)八卦台地。

答案：(C)

解析：政治及軍事中心皆位於今臺南市附近，因此主要為嘉南平原。

33. ( ) 海岸類型中的岩岸和沙岸在成因與景觀等方面有很大的差異，附表為岩岸和沙岸兩者的比較。表格中資料何者有誤？



	(甲)沿岸平原	(乙)自然景觀	(丙)代表地形	(丁)產業發展
岩岸	狹窄	山地與海水相接	潟湖	海運、捕撈漁業
沙岸	寬廣	平原與海水相接	岬角	鹽業、養殖漁業

(A)甲 (B)乙 (C)丙 (D)丁。

答案：(C)

解析：岬角屬於岩岸地形，潟湖、沙灘、沙洲屬於沙岸地形。

34. ( ) 臺灣南部河川流量變化的情形為何？

(A)冬季流量大，夏季流量小 (B)冬、夏流量都很大 (C)冬、夏流量變化不明顯 (D)冬季流量小，夏季流量大。

答案：(D)

解析：夏季是雨季，故流量大；冬季是乾季，故流量小。

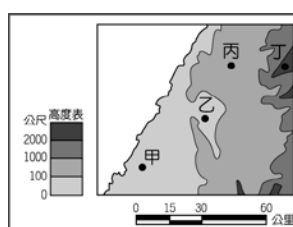
35. ( ) 法國衛星在北回歸線上拍攝到臺灣的衛星照片，若觀察圖上的臺灣山脈走向，其主要呈現出下列哪一種方向？

(A)南北走向 (B)東西走向 (C)四周高而中間低 (D)西北向東南走向。

答案：(A)

解析：臺灣山脈主要受到東西板塊擠壓，因此呈現南北走向的特色。

36. ( ) 就讀大氣科學學系的丁小雨在附圖中四個不同地區設置百葉箱以觀測氣候變化。其中哪一個地區所測得的溫度最低？



(A)甲 (B)乙 (C)丙 (D)丁。

答案：(D)

解析：丁處地勢最高，故氣溫最低。

37. ( ) 臺灣許多河川都建有攔沙壩，其主要目的為何？

(A)吸引觀光客前來旅遊 (B)便於魚兒游至上游產卵 (C)延長水庫的使用年限 (D)精心設計成為當地地標。

答案：(C)

38. ( ) 「合歡山在入冬常下瑞雪，突如其來的下雪盛況，讓管理處與警方措手不及，進行車輛管制……。」由以上敘述可知臺灣雖地處低緯，高山仍有瑞雪盛況，其主要受下列哪一項地理因素影響？

(A)緯度 (B)經度 (C)地形 (D)季風。

答案：(C)

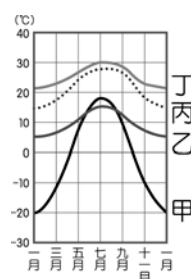
39. ( ) 臺灣位於季風氣候區內，受到盛行方向轉變的影響，降水季節分布不均。請問：臺灣的降水季節大致呈現出哪一項特徵？

(A)終年有雨 (B)夏雨冬乾 (C)夏乾冬雨 (D)全年乾燥。

答案：(B)

解析：臺灣除了北部迎東北季風冬雨較多外，大致呈現夏雨冬乾的特徵。

40. ( ) 附圖為甲、乙、丙、丁四城市的月均溫變化曲線，其中哪一城市的年溫差最大？

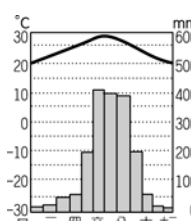


(A)甲 (B)乙 (C)丙 (D)丁。

答案：(A)

解析：年溫差指最暖月均溫－最冷月均溫，圖中甲的落差最大。

41. ( ) 氣候為該地區長時間的觀測資料，可以呈現當地的自然環境特色。附圖為臺灣某地區的氣候圖，請問：圖中可獲得的資料不包括下列何者？



(A)年均溫 (B)年降水量 (C)年溫差 (D)日溫差。

答案：(D)

解析：圖中僅呈現各月分的平均溫度，未呈現每一天的溫度變化，因此無法得知日溫差。

42. ( ) 臺灣中、南部地區的河川，大多建有水庫來調節水源，此一現象最能反映下列哪一項事實？

(A)位在板塊交界處 (B)致力涵養地下水 (C)降水季節分布不均 (D)全力推動溼地保育。

答案：(C)

43. ( ) 曉明在臺灣沿海地區進行鄉土地理實察，發現潟湖上有大量的蚵架分布，據說是當地居民長久以來賴以維生的漁業活動。請問：曉明考察地區的海岸類型最可能為下列何者？

(A)沙岸 (B)珊瑚礁海岸 (C)岬灣海岸 (D)斷層海岸。

答案：(A)

44. ( ) 克漢從臺中搭火車南下高雄集訓，發現鐵路沿線地區中有一平原面積廣大，景色秀麗。請問：他最可能看到了下列哪一個地形區？

(A)屏東平原 (B)宜蘭平原 (C)嘉南平原 (D)花東縱谷平原。

答案：(C)

解析：臺中南下至高雄，途中經過嘉南平原。

45. ( ) 天氣主要指一天當中不同時間的大氣現象，用來作為氣候觀測的參考資料。請問：其中「毫米」的單位通常是用來表現何種大氣現象的單位？

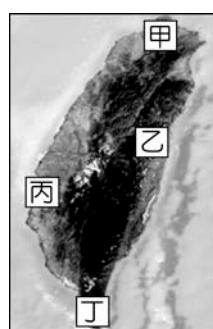
(A)氣溫 (B)降水量 (C)氣壓 (D)風速。

答案：(B)

46. ( ) 小新參觀某航空照片展覽，圖(一)為其中一張照片，可見國道公路及大型灌溉渠道。若以臺灣現今的地表景觀來看，則這張照片最可能位於圖(二)中的何處？【109年會考補考】



圖(一)



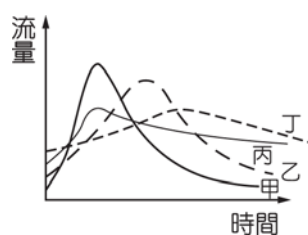
圖(二)

(A)甲 (B)乙 (C)丙 (D)丁。

答案：(C)

解析：由圖中的平原、題幹提及的國道和灌溉渠道來判斷，最可能是丙地的嘉南平原。

47. ( ) 附圖為四條河川的水位變化情形，若這些河川皆發源自相同的集水區，則其中哪一條河川的坡度最為陡峭？



(A)甲 (B)乙 (C)丙 (D)丁。

答案：(A)

解析：河川所經坡度愈陡峭，河水流速愈快，因此水位上升快，下降也快。

48. ( ) 海岸通常分成沙岸、岩岸，請問：其畫分依據主要為何？

(A)構成物質 (B)洋流性質 (C)沿岸居民多寡 (D)附近風力強弱。

答案：(A)

49. ( ) 一般而言，我們在日常生活所收看的天氣預報，通常不包括下列哪一項？

(A)溫度變化 (B)風力大小或等級 (C)降水機率 (D)日照角度。

答案：(D)

50. ( ) 臺灣人口分布集中在西部，此一地理現象的形成和下列何項因素關係最密切？

(A)氣候 (B)土壤 (C)地形 (D)水文。

答案：(C)



[滿分 100 分]

一、單題（每題 2 分，共 100 分）

1. ( ) 附圖是日本的蛋包飯及日文發音，由圖可見日本文化具有何種特色？



(A)單一性 (B)多元性 (C)傳統性 (D)專業性。

答案：(B)

解析：日本將歐姆蛋法文加上米飯英文，變成日文的蛋包飯，可見文化具有多元性。

2. ( ) 目前南韓的經濟活動相當發達，尤其在大型企業的主導下，競爭力更為強勁。請問：下列哪一個企業為南韓的大型財團，單一公司的營收占全國 GDP 的 12%？

(A) SONY (索尼) (B) APPLE (蘋果) (C) SAMSUNG (三星) (D) PHILIPS (飛利浦)。

答案：(C)

解析：(C)三星為南韓大型財團。

3. ( ) 中國境內的上海、北京、廣州等都市近年來發展快速。請問：這些都市吸引人口遷入的共同因素為何？

(A)礦藏豐富 (B)經濟發展 (C)糧食充足 (D)氣候溫溼。

答案：(B)

4. ( ) 中國東北平原平坦遼闊，從事農業人口少，故採取何種措施解決人力缺乏問題？

(A)人口老化 (B)生態農業 (C)人工施肥 (D)機械化耕作。

答案：(D)

解析：中國東北平原平坦遼闊，從事農業人口少，故採取機械化耕作措施。

5. ( ) 氣候條件影響產業活動的發展，因而造成人口分布的多寡。附圖為中國的氣候類型分布圖。請問：何處人口較為稠密？



(A)甲 (B)乙 (C)丙 (D)丁。

答案：(A)

解析：甲為季風氣候區，由於降水量較為豐富，因此有利農業發展，人口較多。

6. ( ) 附表是亞洲國家的產業人口組成一覽表，其中日本的產業結構可以直接顯示出下列何項特色？〔90.第二次基測修訂〕

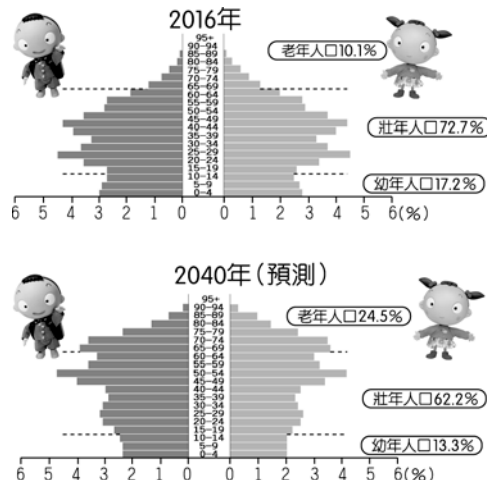
國家	第一級產業	第二級產業	第三級產業
寮國	62%	11%	27%
日本	6%	33%	61%
泰國	27%	27%	46%
臺灣	15%	32%	53%

(A)人口眾多 (B)工商發達 (C)糧食充足 (D)氣候寒冷。

答案：(B)

解析：由表格可知日本以第二、三級產業為主，工業發達。

7. ( ) 附圖為中國過去及預估未來的人口變化趨勢，由圖中內容判斷，下列哪一項產業可能成為中國未來的「明星產業」？



(A)幼稚園 (B)托兒所 (C)安養院 (D)婦產科。

答案：(C)

解析：圖中呈現老年人口比例提高，幼年人口比例降低的趨勢，因此未來對於老人安養的需求最為明顯。

8. ( ) 1979 年起中國為了達成下列何種人口目標，曾一度積極實施「一胎化政策」？



(A)降低出生率 (B)減少移出率 (C)平衡區域發展 (D)增加人力資源。

答案：(A)

解析：「一胎化政策」規定一對夫妻只能生育一胎，可降低出生率，達成控制人口數量。

9. ( ) 中國的人口分布受到自然環境的影響，各地分布較不均勻，其中人口主要居住在附圖中何處為主？



(A)甲 (B)乙 (C)丙 (D)丁。

答案：(A)

解析：中國人口主要集中於東半部的季風區。

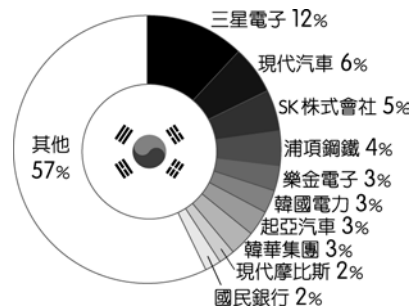
10. ( ) 下列哪一個國家在 2010 年已超越日本，成為世界第二大經濟體，至 2018 年時，已成為全世界第二大的消費品市場？

(A)英國 (B)中國 (C)德國 (D)美國。

答案：(B)

解析：(B)中國已超越日本，成為世界第二大經濟體，並成為全世界第二大的消費市場。

11. ( ) 附圖是 2020 年南韓前十大企業營收占南韓 GDP 比例圖，由圖中資訊判斷，南韓企業有何特色？

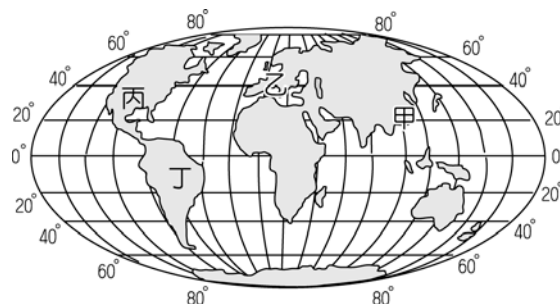


(A)中小企業居多 (B)個人創業盛行 (C)多為大型財團 (D)實施共產制度。

答案：(C)

解析：南韓企業如三星、SK、現代汽車屬於大型財團。

12. ( ) 在全球化的過程中，世界各國的經濟交流日漸頻繁。哪一國家於附圖中的市場潛力最高，且具有大量廉價的勞力資源？



(A)甲 (B)乙 (C)丙 (D)丁。

答案：(A)

解析：甲為中國，由於人口數為圖中最多，具有市場及勞工的優勢。

13. ( ) 影響南北韓經濟發展迥異的因素有很多，其中北韓優於南韓的因素是下列何者？

(A)地形 (B)降水量 (C)生長季 (D)礦產資源。

答案：(D)

解析：北韓礦產較多。

14. ( ) 「兩岸猿聲啼不住，輕舟已過萬重山」為中國著名詩人李白描寫長江滾滾江水流動的情況。若仔細觀察會發現，中國主要的江河流向多由西向東流動，這和下列何者的關係最為密切？

(A)西邊地勢較高 (B)西邊降水量較多 (C)西邊土壤鬆軟 (D)西邊人口密集。

答案：(A)

解析：中國由於地勢西高東低，主要河川多由西向東流。

15. ( ) 早期中國沿海與南洋（東南亞）之間貿易的船隻，必須根據固定產生風向變化的「船棹風」來決定往返的時間。這種所謂的「船棹風」是指哪一種風？

(A)颱風 (B)西風 (C)季風 (D)龍捲風。

答案：(C)

解析：季風風向隨著季節變化而相反，利於船隻南來北往。

16. ( ) 北韓糧食不足，因此饑荒問題較為嚴重。請問：該國農業發展的不利條件中不包括下列何者？

(A)地勢較高 (B)生長季短 (C)氣候寒冷 (D)水患頻繁。

答案：(D)

解析：年降水量少，故水患不多。

17. ( ) 中國的工業活動發展至今剛好半個世紀，由於改革開放的政策影響，整體經濟發展的速度相當快，國內生產毛額已成為世界第二大的國家，僅次於美國。請問：其發展過程中，附圖中哪一個區域最先發展，經濟最發達？



(A)甲 (B)乙 (C)丙 (D)丁。

答案：(B)

解析：中國改革開放以東部沿海的經濟特區開始，進而帶動其他區域發展。

18. ( ) 中國境內各地的地理環境差異甚大，影響農作物的發展。附圖為中國某作物的分布圖，依圖中作物分布範圍判斷，該作物最可能為下列何者？



(A)小麥 (B)棉花 (C)水稻 (D)玉米。

答案：(C)

解析：水稻主要分布於高溫溼潤的氣候環境。

19. ( ) 中國面積廣大，人口眾多。下列有關中國人口特色的敘述，何者正確？

(A)人口總數達 20 億人 (B)人口分布平均 (C)東部人口眾多 (D)中國人口約占世界人口的 1/10。

答案：(C)

解析：(A)人口已達 14 億人(B)人口分布不均(D)中國人口約占世界人口的 1/5。

20. ( ) 中國經濟發展有區域差異，下列哪一經濟區因靠海有對外交通的優勢？

(A)西部 (B)中部 (C)東北 (D)東部。

答案：(D)

21. ( ) 南韓隊到臺灣來參加國際比賽時，總是會攜帶具有家鄉味的食物，尤其是泡菜更是不可缺少。請問：南韓當地盛行食用該食物的主要原因為何？

(A)土壤貧瘠 (B)氣候嚴寒 (C)降水量少 (D)地形崎嶇。

答案：(B)

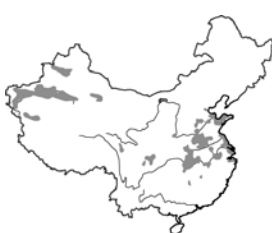
解析：和當地冬季氣候嚴寒不利種植蔬菜有關。

22. ( ) 下列為中國的各種農作物主要分布圖，其中代表水稻的是何者？

(A)



(B)



(C)



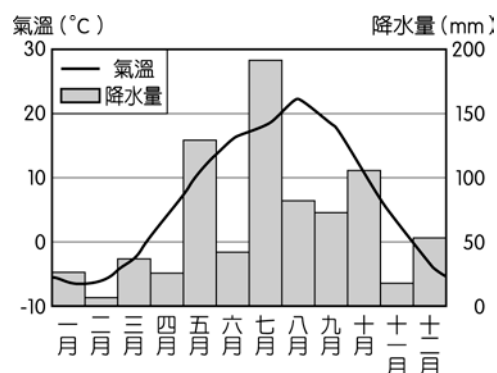
(D)



答案：(C)

解析：水稻多分布於東半部平原地區，且降水量較為充足的南部為主。

23. ( ) 李老師上課時，帶來一包牛奶糖請大家吃，並介紹這牛奶糖可大有來頭，它是源自一個世界重要的乳酪產地，附圖為當地的氣候圖。依圖中內容判斷，該牛奶糖的產地最有可能是下列何處？



(A)臺灣的墾丁牧場 (B)日本的北海道 (C)紐西蘭的北島 (D)澳洲的草原。

答案：(B)

解析：圖為北半球的溫帶季風氣候。

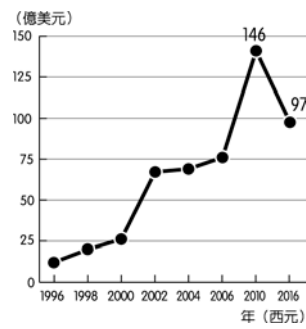
24. ( ) 中國經濟發展有區域差異，哪一地區靠海，經濟發展較佳？

(A)西部 (B)中部 (C)東北 (D)東部。

答案：(D)

解析：(D)東部地區靠海，經濟發展較佳。

25. ( ) 附圖為臺商對中國投資金額統計圖，顯示 2010 年開始，臺商投資中國產業的金額逐年下降中。請問：該現象主要受到中國哪一因素影響？



(A)礦藏資源枯竭 (B)基本工資上漲 (C)服務業興起 (D)代工廠技術不良。

答案：(B)

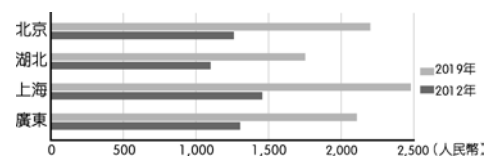
26. ( ) 近 20 年來，中國嬰幼兒的男女性別比嚴重失衡，形成此現象的主要原因為何？(甲)一胎化政策(乙)重男輕女觀念(丙)工商業發達(丁)人口外移

(A)甲乙 (B)乙丙 (C)丙丁 (D)甲丁。

答案：(A)

解析：因為出生兒數量受到政策限制，再加上傳統觀念影響，因此更加希望生出男嬰。

27. ( ) 附圖為中國部分省區市最低月薪變化圖，由圖中資料判斷，此變化會影響企業的哪一項條件？



(A)交通 (B)動力 (C)勞工 (D)原料。

答案：(C)

解析：隨勞工權益提升，基本工資也提高，企業成本大幅增加。

28. ( ) 一位立法委員為抗議第二次世界大戰時期臺灣原住民被徵召打仗，因此前往位於日本首都的靖國神社抗議，再度引起國人對此問題的重視。請問：上述立委前往從事抗議活動的地區應為下列何者？

(A)神戶 (B)大阪 (C)東京 (D)名古屋。

答案：(C)

解析：日本的首都是東京。

29. ( ) 中國在 2013 年為擴展其全球經濟影響力，推出「一帶一路」的政策，透過交通發展帶動沿線的產業活動，該計畫中，中國利用陸上絲路與下列哪一洲交流往來？

(A)北美洲 (B)非洲 (C)歐洲 (D)大洋洲。

答案：(C)

解析：中國利用陸上絲路，經中國西部地區通往歐洲。

30. ( ) 中國經濟發展有區域差異，哪一地區靠內陸，交通較不便，經濟發展較差？

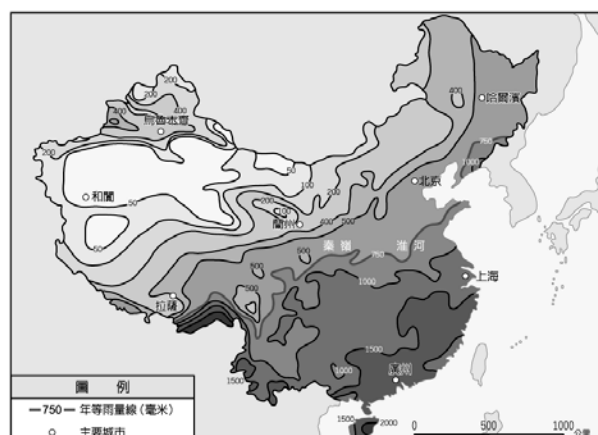


(A)甲 (B)乙 (C)丙 (D)丁。

答案：(D)

解析：(D)西部地區靠內陸，交通較不便，經濟發展較差。

31. ( ) 附圖為中國的年降水量分布圖，根據圖中資料判斷，哪一個都市的降水量最為豐富？





(A)廣州 (B)哈爾濱 (C)蘭州 (D)北京。

答案：(A)

解析：廣州的年降水量 1,500 mm 以上，為四大都市中降水量最多。

32. ( ) 下列哪一種動物主要分布在青藏高原及喜馬拉雅山，其肉可食、乳可飲，是當地重要的運輸工具？

(A)駱駝 (B)犛牛 (C)駿馬 (D)山羊。

答案：(B)

解析：(B)犛牛主要分布在青藏高原及喜馬拉雅山，其肉可食、乳可飲，是當地重要的運輸工具。

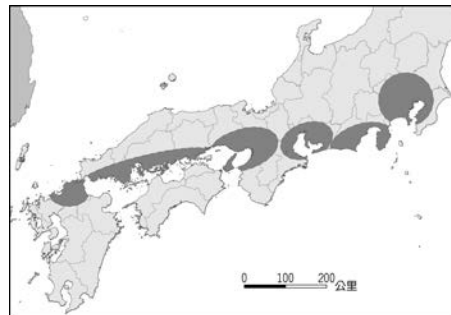
33. ( ) 日本位於亞洲的東部，其生活方式受到自然環境的影響甚大。請問：日本梯田分布的面積相當廣大，最主要是受到下列何項因素的影響？

(A)土地面積小 (B)氣候溼潤 (C)山多平原少 (D)島群分散。

答案：(C)

解析：日本群島地形起伏大，山多平原少，土地資源有限，除平原地區外，丘陵地也開闢梯田。

34. ( ) 附圖是日本主要工業區示意圖。請問：這些工業區的分布位置和下列何者的關係最大？



(A)位在環太平洋地震帶 (B)山多田少 (C)出口貿易 (D)寒暖流交會。

答案：(C)

解析：日本境內缺乏礦產資源，工業區多分布在海運發達的沿海地區，利於原料與產品的進出口。

35. ( ) 中國的人口密度高低受到農業活動發展的影響甚大，請問：中國的農業區主要位於地勢中的哪一階地形？

(A)高階地形 (B)中階地形 (C)低階地形 (D)上階地形。

答案：(C)

解析：低階地形以平原和丘陵為主，有利農業活動的發展。

36. ( ) 亞洲的國家中，以日本為主要的經濟大國。請問：其發展的有利因素不包括下列何者？

(A)交通方便 (B)技術進步 (C)原料豐富 (D)勞工素質。

答案：(C)

解析：日本工業發達的原因不包括(C)原料豐富。

37. ( ) 日本由於地狹人稠，因此積極發展填海造陸工程，附圖中的長崎造船廠即為該技術所造成，請由地圖位置判斷，填海後造成哪一個島嶼的面積增加？

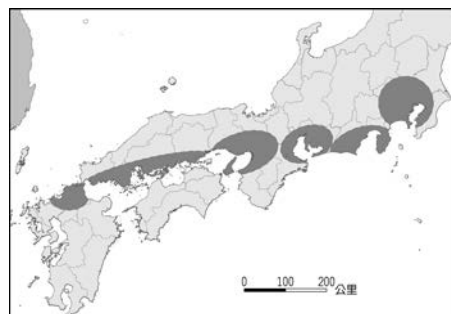


(A)北海道 (B)本州 (C)九州 (D)四國。

答案：(C)

解析：長崎造船廠位在最南的九州。

38. ( ) 附圖是日本主要工業區示意圖，這些工業區的分布與下列何者的關係較小？



(A)近海地區 (B)交通發達 (C)礦產豐富 (D)港口分布。

答案：(C)

解析：日本礦產資源不足，大多仰賴進口。

39. ( ) 中國地勢的起伏會影響各地的氣候、水文及人文活動，請問：受到中國境內地勢起伏的影響，最有利於下列哪一個海洋的水氣吹入內地，提供充沛水源？

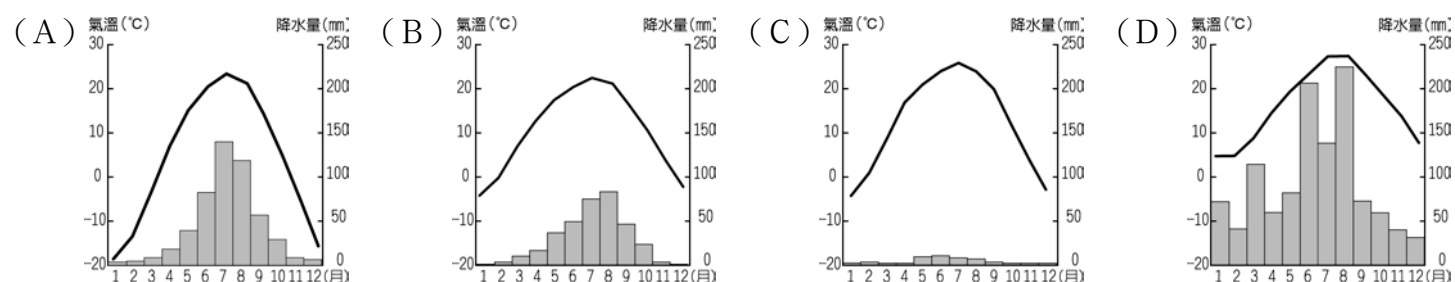


(A)印度洋 (B)太平洋 (C)北極海 (D)大西洋。

答案：(B)

解析：中國地勢西高東低，因此東側的太平洋水氣可以深入內地，帶來豐沛降水。

40. ( ) 下列為中國境內四個城市的氣候資料，依內容判斷，何者距離赤道可能較近？



答案：(D)

解析：受緯度高低影響，中國冬季南北溫差大，因此緯度愈低的地區冬季氣溫愈高。

41. ( ) 2022 年中國新生兒性別比高達 110，此數字代表何種意涵？

(A)每 100 個男生對應 110 個女生 (B)每 100 個女生對應 110 個男生 (C)每 200 個男生對應 110 個女生 (D)每 200 個女生對應 110 個男生。

答案：(B)

解析：新生兒性別比高達 110 代表每 100 個女生對應 110 個男生。

42. ( ) 何者不是日本、南韓皆具有的經濟發展特色？

(A)原料多需仰賴進口 (B)產品多以外銷世界為主 (C)出口汽車、高科技產品等高單價物品為主 (D)兩國人口眾多，現在以「世界市場」聞名。

答案：(D)

43. ( ) 中國近年來受到一胎化政策及經濟發展的影響，出現了下列何種人口變化？

(A)幼年人口減少、老年人口比例增加 (B)男性人口減少、女性人口增加 (C)幼年人口增加、老年人口比例減少 (D)扶養人口增加、勞動人口減少。

答案：(A)

解析：一胎化政策造成出生率下降，而隨著醫療衛生逐漸進步，使得死亡率亦降低。

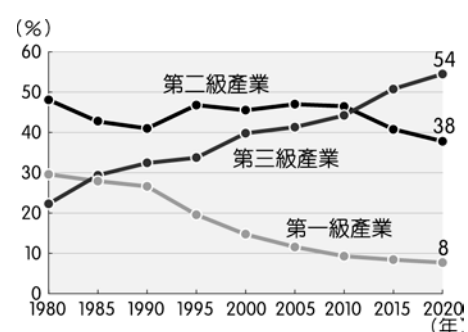
44. ( ) 今年冬天時小婷和家人前往中國旅遊，她們沿著東岸的主要都市一路北上，附表是行經的四個都市氣溫資料。請問：她們第一個抵達的都市應該為下列何者？

都市	一月月均溫 (°C)
甲市	-15.2
乙市	3.7
丙市	-4.7
丁市	-19.7

(A)甲市 (B)乙市 (C)丙市 (D)丁市。

答案：(B)

45. ( ) 附圖是中國三級產業產值比例統計圖，哪一年第三級產業產值開始高於第一級產業？



(A)1980 年 (B)1985 年 (C)2010 年 (D)2020 年。

答案：(B)

解析：(B)由圖判斷，1985 年第三級產業產值開始高於第一級產業。

46. ( ) 中國的地勢依其起伏可分為三級階梯，其中最西側的地勢階梯多為哪些地形的分布？

(A)高原、山地 (B)高原、平原 (C)山地、丘陵 (D)平原、丘陵。

答案：(A)

解析：中國西側為 4,000 公尺以上的高階，以山地、高原為主體。

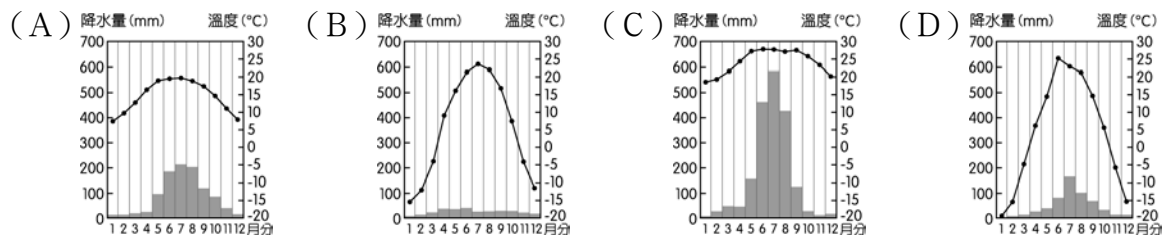
47. ( ) 日本的國內生產毛額名列全球前茅，該國最有利的生產條件為下列何者？

(A)地狹人稠 (B)海域廣大 (C)原料充足 (D)技術進步。

答案：(D)

解析：日本工業發達與技術進步有關。

48. ( ) 中國的氣候類型依其位置而分為不同類型，附圖中甲地的氣候類型應該為何？



答案：(C)

解析：甲地位於中國東南部，因此應該為熱帶季風氣候。

49. ( ) 中國的西部地區以牧業活動為主，至於農業活動能否發展主要和下列哪一項因素關係最大？

(A)施肥工程 (B)水源灌溉 (C)交通工程 (D)排水工程。

答案：(B)

解析：乾燥地區有水源灌溉之處可發展綠洲農業。

50. ( ) 中國各地區的自然環境條件不同，影響當地的環境負載力高低。如內陸人口稀疏地區，多以何種產業活動為主？

(A)農業 (B)漁業 (C)商業 (D)牧業。

答案：(D)

解析：內陸地區因為距海遙遠，因此降水量較少，故居民多以牧業活動為主。

[滿分 100 分]

一、單題（每題 2 分，共 100 分）

1. ( ) 附圖為莫斯科的權力中心——克里姆林宮照片。請問：該都市為下列哪一個國家的首都？



(A)波蘭 (B)捷克 (C)俄羅斯 (D)德國。

答案：(C)

解析：克里姆林宮位於俄羅斯。

2. ( ) 「該國的農場面積廣大，利用機械化的生產方式、專業化的生產過程，讓這些農場主人收入豐富，成為世界重要的農業輸出國。」請根據上文敘述判斷，該國應該為下列何者？

(A)日本 (B)臺灣 (C)中國 (D)美國。

答案：(D)

解析：美國從事高度的商業性農業活動，大規模且專業化的生產過程，平均每人生產量甚高。

3. ( ) 西元 1994 年部分國家協議成立北美自由貿易協定 (NAFTA)，藉由降低彼此間關稅的方式，來提升區域內國家的國民福利。請根據位置判斷，下列哪一個國家不是這個組織的會員國？〔95.第二次基測修訂〕

(A)美國 (B)紐西蘭 (C)墨西哥 (D)加拿大。

答案：(B)

解析：紐西蘭不在北美洲境內，因此非該區域經濟組織的成員。

4. ( ) 世界主要宗教分為不同派別，影響各地區的人文特色。附圖為某宗教信仰的主要分布區域，請問：當地主要的宗教應為下列何者？



(A)佛教 (B)伊斯蘭教 (C)東正教 (D)印度教。

答案：(C)

解析：東歐及俄羅斯等地區主要信仰宗教為東正教。

5. ( ) 北美大平原的北部地表較崎嶇，遍布許多湖泊，為當地美、加的邊界。該地區的湖泊主要為哪一種類型的湖泊？

(A)火口湖 (B)冰蝕湖 (C)斷層湖 (D)堰塞湖。

答案：(B)

解析：北美大平原北部受冰河侵蝕，多冰蝕湖。

6. ( ) 美式文化已成為影響世界各地的文化代表，其呈現下列何種文化特色？

(A)多元文化 (B)弱勢文化 (C)傳統文化 (D)次文化。

答案：(A)

解析：美式文化為美國境內多元文化互相影響而成。

7. ( ) 美國社會為民族的熔爐，各種文化形成其多元特色。請問：這種多元文化的起源和下列何項關係最為密切？

(A)出生率高 (B)死亡率低 (C)移出率高 (D)移入率高。

答案：(D)

解析：外國移民移入美國形成多元文化特色。

8. ( ) 歐洲近年來人口老化的問題漸趨嚴重，福利支出大幅增加，使得歐洲經濟成長遲緩。造成該地區老年人口增加的主要因素為何？

(A)歐洲聯盟成立 (B)勞工大量外移 (C)醫療衛生發達 (D)退休人口移入。

答案：(C)

解析：歐洲因為醫療進步，死亡率下降，連帶使得人口老化。

9. ( ) 臺灣鴻海科技集團在捷克設廠，以便商品得進軍哪一個區域經濟體的市場？

(A)世界貿易組織 (B)東南亞國協 (C)亞太經濟合作會議 (D)歐洲聯盟。

答案：(D)

解析：捷克為歐盟會員國，因此在當地設廠，將有利商品銷往歐盟市場。

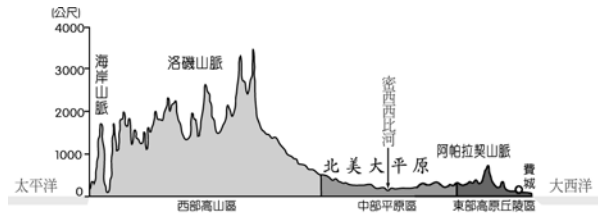
10. ( ) 歐洲的國家眾多，境內各地區的發展程度各不相同。請問：以經濟發展而言，下列哪一個地區的發展相對較為遲緩？

(A)西歐 (B)東歐 (C)北歐 (D)南歐。

答案：(B)

解析：東歐早期為共產主義，因此經濟發展較遲緩。

11. ( ) 附圖是北美洲地形剖面圖，請由圖判斷，地勢高低為何？



(A)北高南低 (B)南高北低 (C)西高東低 (D)東高西低。

答案：(C)

解析：北美洲地形剖面圖是西高東低。

12. ( ) 中南美洲呈現拉丁文化的特色，主要是受到下列何者的影響？

(A)航海貿易 (B)宗教傳播 (C)殖民過程 (D)位置相鄰。

答案：(C)

解析：當地早期受到西班牙人及葡萄牙人的殖民，多呈現拉丁文化色彩。

13. ( ) 附表為世界各主要國家的所得稅占 GDP 比率表，請由表中資料判斷，所得稅較高的國家多位於哪一個地區？

國家	所得稅占 GDP 比率 (%)
丹麥	53
挪威	51
瑞典	49
英國	38
美國	18
臺灣	15

(A)北美 (B)東亞 (C)西歐 (D)北歐。

答案：(D)

解析：丹麥、挪威、瑞典均位於北歐。

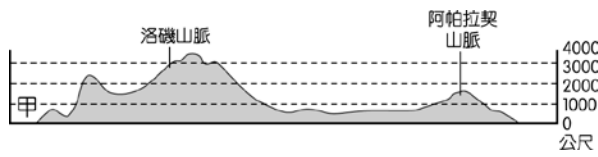
14. ( ) 2016 年由巴西所籌畫的里約奧運簡單而熱鬧，在開幕儀式上以代表著該國的綠色與黃色為主色調，強調環保與大自然，同時向世界表達保護當地有「地球之肺」稱謂的自然景觀之美。請問：上述的自然景觀應為下列何者？

(A)安地斯山 (B)火山熔岩 (C)珊瑚礁島 (D)熱帶雨林。

答案：(D)

解析：熱帶雨林可吸收大量的二氧化碳，緩和溫室效應，因此又稱為地球之肺。

15. ( ) 附圖為北美洲的地形剖面圖，請依其地理位置加以判斷，圖中甲海域應該為何者？



(A)太平洋 (B)大西洋 (C)墨西哥灣 (D)哈得孫灣。

答案：(A)

解析：洛磯山脈為太平洋板塊推擠美洲板塊而形成的，故依地緣關係判斷，甲海域應該為太平洋。

16. ( ) 世界幸福報告為聯合國衡量幸福的可持續發展方案，主要項目有人民對於社會安全、經濟問題和個人自由等感受。2022 年，前八名的國家依序是：芬蘭、丹麥、冰島、瑞士、荷蘭、盧森堡、瑞典、挪威。此八國家皆屬於歐洲哪兩個分區？

(A)東歐、西歐 (B)南歐、北歐 (C)北歐、西歐 (D)南歐、東歐。

答案：(C)

解析：芬蘭、丹麥、冰島、瑞典、挪威位於北歐，瑞士、荷蘭、盧森堡位於西歐。

17. ( ) 來自歐洲的哥倫布為相當著名的探險家，他在抵達美洲前，必須穿越哪一個海洋？

(A)太平洋 (B)大西洋 (C)印度洋 (D)地中海。

答案：(B)

解析：歐洲和美洲之間相隔大西洋。

18. ( ) 2016 年初，中南美洲已有 20 多國出現茲卡病毒病例，墨西哥也包含其中，令世界各國提心吊膽。請問：上述病毒若經墨西哥往哪一方向傳播，將會把疫情傳入北美洲？

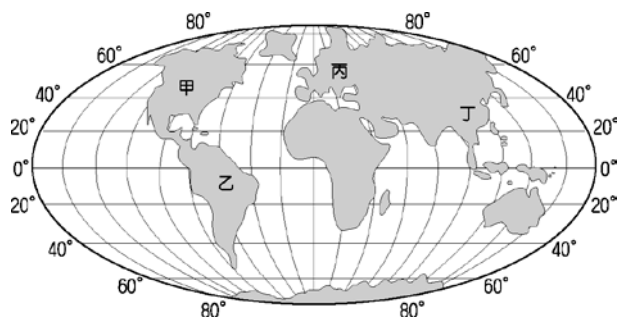
(A)東方 (B)西方 (C)南方 (D)北方。

答案：(D)

解析：北美洲位於中南美洲的北方。

19. ( ) 全球化的浪潮下，各地區為增加本身的競爭力，紛紛成立區域性經濟組織。請問：這種以地域為主體的各經濟組織，以附圖中哪一個地區的組織最為完善，並且已有共同通行的貨幣發行？





(A)甲 (B)乙 (C)丙 (D)丁。

答案：(C)

解析：歐洲聯盟成立後發行通行貨幣——歐元。

20. ( ) 歐洲哪一個地區位於德國與俄羅斯之間，因此在第二次世界大戰時，遭受了戰火的波及？

(A)西歐 (B)東歐 (C)南歐 (D)北歐。

答案：(B)

解析：東歐西側為西歐國家，而東側為俄羅斯。

21. ( ) 北美洲的氣候類型呈現多樣化，該地區的寒帶氣候分布於哪一條經緯線附近？

(A)北回歸線 (B)北緯 66.5 度 (C)西經 66.5 度 (D)赤道。

答案：(B)

解析：寒帶氣候多分布於極圈附近，北美洲位於北半球，故應為北緯 66.5 度。

22. ( ) 北美洲的經濟活動相當發達，更是全球農產品出口量最高的地區，成為當地重要的收入來源。下列有關當地農業活動的特色敘述中，何者不正確？

(A)機械化程度高 (B)作物種類眾多 (C)農業科技進步 (D)農場規模龐大。

答案：(B)

解析：當地由於多以出口為主的商業性農業活動，所以主要以單一作物為主，可有效降低成本並提高利潤。

23. ( ) 荷蘭和臺灣一樣同為面積狹小的國家，缺乏天然資源，大部分皆依賴進口，所以國際貿易發達。請問：荷蘭發展國際貿易，可藉由流經境內的哪一條河川運往西歐各國？

(A)多瑙河 (B)塞納河 (C)波河 (D)萊因河。

答案：(D)

解析：荷蘭位於萊因河的入海處，因此該港口鹿特丹成為重要的貿易門戶。

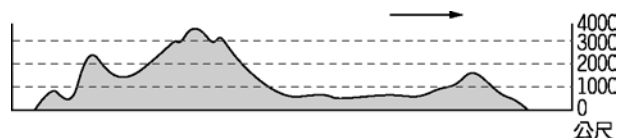
24. ( ) 安地斯山脈為陸地上最長的山脈，南北綿延 7,500 公里。請問：該山脈分布於下列何處？

(A)北美洲東部 (B)中美地峽 (C)南美洲西部 (D)南美洲東部。

答案：(C)

解析：安地斯山脈位於南美洲西部，為海陸板塊擠壓所形成。

25. ( ) 美國境內面積廣大，各地區的地形特色皆不相同。附圖為美國某地區的地形概況，依圖中地勢起伏情形判斷，圖中箭頭所指的方向應為何？



(A)東方 (B)西方 (C)南方 (D)北方。

答案：(A)

解析：美國境內的地形分布由西往東，依次為高山區→平原區→高原丘陵區。

26. ( ) 北歐的氣溫較同緯度地區為高，有利於當地沿海航運業的發展。造成這種特色的主要原因為下列何者？

(A)暖流經過 (B)地勢較低 (C)位背風坡 (D)地形封閉。

答案：(A)

解析：北歐因有北大西洋暖流經過，氣候較為溫暖，港口冬不結冰。

27. ( ) 下列有關歐盟市場的敘述，何者正確？

(A)域內商品可以自由流通 (B)域外進口商品無配額限制 (C)自臺灣進口產品不須課稅 (D)域外產品利於行銷歐盟。

答案：(A)

解析：歐盟會員國之間取消關稅及國界等限制，有利彼此的經濟往來。

28. ( ) 亞馬孫河及剛果河為世界流域面積最大的兩條河川，其共同的特色為下列何者？

(A)皆位於非洲境內 (B)皆為高原地形 (C)皆屬於熱帶雨林氣候 (D)皆位於北回歸線上。

答案：(C)

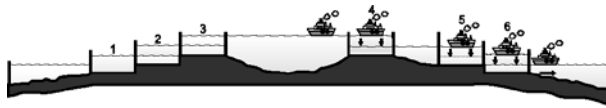
解析：(A)亞馬孫河位於南美洲(B)皆為盆地地形(D)皆位於赤道上。

29. ( ) 某回憶文章寫到：「我 10 歲時爆發戰爭，經歷幾次革命，迎來新政權與新政策，之後我們的日子變得非常艱困。到了冬天，住在莫斯科的我們，沒有電燈、沒有水、沒有暖氣，因為寒冷，所有的水管都凍得爆裂，我們只得把書架和房間的夾板拆下燒火取暖。」文章中描述的莫斯科生活環境艱困，與下列何者關係最密切？

(A)位處高緯度 (B)沿海寒流流經 (C)位居歐亞的交界 (D)地處高海拔地區。

答案：(A)

30. ( ) 附圖為巴拿馬運河示意圖，該條聯洋運河主要貫穿下列哪一個地形區？

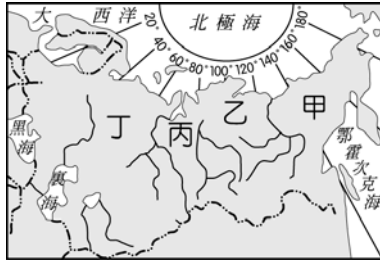


(A)墨西哥高原 (B)安地斯山脈 (C)亞馬孫盆地 (D)中美地峽。

答案：(D)

解析：巴拿馬運河通過中美地峽，形成重要的水運要道。

31. ( ) 附圖是俄羅斯的地形分區圖，哪一地區是它的精華區，農業發達？

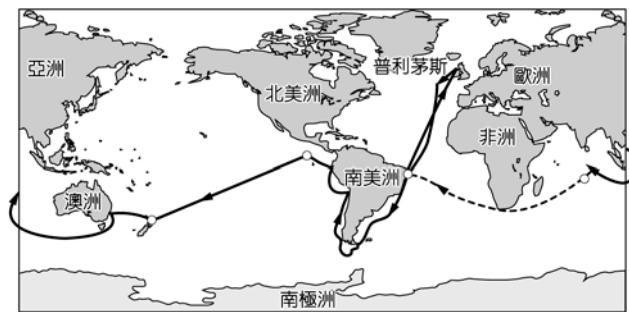


(A)甲 (B)乙 (C)丙 (D)丁。

答案：(D)

解析：歐俄平原是俄羅斯的精華區，農業發達，故選(D)。

32. ( ) 英國艦艇由該國沿海的港口——普利茅斯出發，開啟了環遊世界的旅程，若根據附圖中資料判斷，該艦前往南美洲時須經過哪一個海洋？



(A)地中海 (B)大西洋 (C)太平洋 (D)印度洋。

答案：(B)

解析：英國西部至美洲東部必須經過大西洋海域。

33. ( ) 世界著名的洛磯山脈為哪兩個海陸板塊撞擊所形成的高山，地勢高聳，多火山、地震活動？

(A)太平洋板塊、歐亞板塊 (B)大西洋板塊、歐亞板塊 (C)大西洋板塊、北美板塊 (D)太平洋板塊、北美板塊。

答案：(D)

解析：洛磯山脈位於北美洲西側，位於太平洋板塊與北美板塊擠壓帶。

34. ( ) 「該國早期在經濟生產、資源開發利用及消費市場等層面皆由國家所主導，由於經濟發展缺乏效率，因此在 20 世紀後期政治體制逐漸解體。」請問：上述國家應位於附圖中何處？




(A)甲 (B)乙 (C)丙 (D)丁。

答案：(B)

解析：文中所敘述的經濟特色為計畫經濟，主要分布於東歐國家。

35. ( ) 附圖為某山脈的農牧業分布圖，若根據圖中農牧業的分布狀況加以判斷，應該為哪一座山脈？



(A)洛磯山脈 (B)阿爾卑斯山 (C)安地斯山脈 (D)阿帕拉契山脈。

答案：(C)

解析：圖中有咖啡、可可等熱帶作物分布，可知該山脈分布於熱帶地區。

36. ( ) 北歐由於有下列哪一股洋流經過，因此氣候較為溫暖，有利於當地居民從事各種產業活動？

(A)黑潮暖流 (B)北太平洋暖流 (C)巴西暖流 (D)北大西洋暖流。

答案：(D)

解析：北歐雖地處高緯，但因有北大西洋暖流經過，港口冬不結冰，有利漁業、航運業發展。

37. ( ) 美國五大湖區因為接近紐約等工商業重鎮，故最有利於下列哪一項農牧業的發展？

(A)小麥耕作 (B)放牧 (C)棉花種植 (D)酪農業。

答案：(D)

解析：酪農業因為產品容易腐敗，因此多以靠近市場為主。

38. ( ) 美洲境內哪一個國家發展工業的條件最為優越，具有豐富的資源、資金、技術及廣大的市場？

(A)巴西 (B)墨西哥 (C)美國 (D)加拿大。

答案：(C)

解析：美國經濟較為發達。

39. ( ) 萊因河流經歐洲主要的工業區，過去因汙染嚴重而有「歐洲下水道」的惡名，近年來整治得相當成功，成為許多國家的借鏡。請問：若要對該河川進行實地考察，應該前往歐洲何處？

(A)東歐 (B)北歐 (C)南歐 (D)西歐。

答案：(D)

解析：萊因河主要流經西歐，由荷蘭注入北海。

40. ( ) 新聞報導：「2010年由於希臘政府欠債3千億歐元，恐無力償債而引發歐債危機，影響全球的經濟發展至今陰霾仍未退去，希臘雖獲歐盟援助，但國內經濟仍未明朗化。」新聞中的希臘位於歐洲哪一地形區？

(A)伊比利半島 (B)義大利半島 (C)巴爾幹半島 (D)歐洲大平原。

答案：(C)

解析：希臘位於南歐的巴爾幹半島上。

41. ( ) 北歐的芬蘭利用天然的冰蝕湖和當地盛產的針葉林發展出著名的芬蘭浴，是旅遊當地的觀光客必定體驗的活動。請問：芬蘭位於附圖中何處？

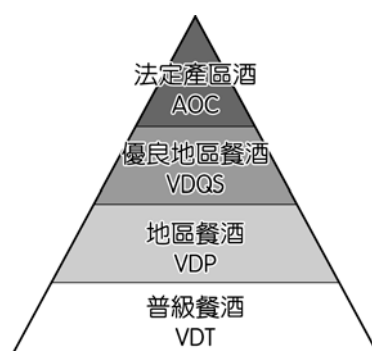


(A)甲 (B)乙 (C)丙 (D)丁。

答案：(D)

解析：甲為冰島，乙為挪威，丙為瑞典，丁為芬蘭。

42. ( ) 法國的葡萄酒已成為當地飲食文化不可或缺的元素，依照其品質可分為四個等級，如附圖所示。請問：法國盛產葡萄來製成酒，是因當地為何種氣候類型？



(A)高地氣候 (B)寒帶氣候 (C)溫帶大陸性氣候 (D)溫帶地中海型氣候。

答案：(D)

解析：葡萄為地中海型農業的主要作物，多分布於溫帶地中海型氣候區。

43. ( ) 阿爾卑斯山橫互在西歐與南歐之間，卻沒有造成歐洲人南來北往交通的障礙，關鍵就在於如附圖所示的南北向谷地，該地形是何種作用力所造成的？



(A)斷層作用 (B)火山作用 (C)冰河作用 (D)河川侵蝕作用。

答案：(C)

解析：阿爾卑斯山受冰河侵蝕，形成谷地，谷地底部寬平，沒有造成歐洲人南來北往交通的障礙。

44. ( ) 美國被稱為「民族拼盤」，境內的族群種類相當多，形成多元化的社會特色。下列哪一個族群昔日主要以漁獵和採集活動為主，與大自然的關係相當密切？

(A)歐洲裔白人 (B)拉丁美洲裔 (C)非裔黑人 (D)美洲原住民族。

答案：(D)

解析：美洲原住民族在歐洲人進來之前，多以漁獵和採集活動為主。

45. ( ) 附圖是某區板塊分布圖，此區板塊撞擊形成哪一座山脈？





(A)烏拉爾山 (B)阿爾卑斯山 (C)喜馬拉雅山 (D)吉力馬札羅山。

答案：(B)

解析：由歐亞板塊和非洲板塊撞擊，判斷是阿爾卑斯山。

46. ( ) 曉明的網友住在俄羅斯，他形容自己居住地區的景觀：「有高大的山脈、崎嶇切割的高原及低窪的平原，面積廣大但大部分地區相當荒涼。」請問：曉明的網友最可能住在下列哪一個地理區中？

(A)歐俄 (B)高加索 (C)西伯利亞 (D)中亞。

答案：(C)

解析：西伯利亞的面積廣大，但受自然環境的限制，人煙稀少。

47. ( ) 美洲大陸中的哪一個國家以高原地形為主，氣候較平地涼爽，成為人口集中地區？

(A)美國 (B)墨西哥 (C)巴拿馬 (D)牙買加。

答案：(B)

解析：墨西哥境內以高原地形為主，形成當地的景觀特色。

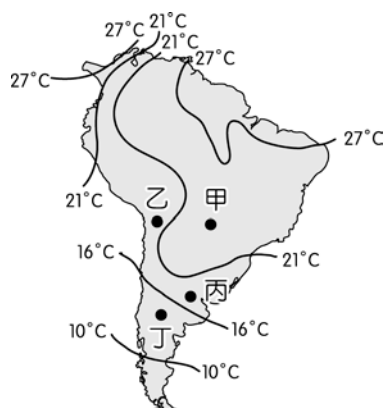
48. ( ) 美國的農牧業活動相當發達，商業性的出口導向帶來豐富的收益。請問：美國對外出口的農牧業產品不包括下列何者？

(A)小麥 (B)牛肉 (C)棉花 (D)咖啡。

答案：(D)

解析：美國主要位於溫帶地區，境內不易生產熱帶栽培業作物。

49. ( ) 南美洲的年均溫分布狀況如附圖所示。請問：圖中哪一點的年均溫最高？



(A)甲 (B)乙 (C)丙 (D)丁。

答案：(A)

解析：甲的年均溫在 21°C 以上，其餘皆在 21°C 以下。

50. ( ) 近年來，中國與俄羅斯共同合作「泰納線」的管線工程，如附圖，希望透過運送某種資源，以提供中國的工業發展。上述的「某種資源」最可能為下列何者？



(A)煤礦 (B)鐵礦 (C)石油 (D)電力。

答案：(C)

解析：俄羅斯是全球重要石油輸出國家，石油是液體，適合管線運輸。